



## FICHA DE REPASO PARA EL EXAMEN TEMA 1

1- Escribe el número que representan estos palitos.

1 


2 

1 \_\_\_\_\_

2 \_\_\_\_\_

2- Descompone:

196		
C	D	U



3- Cuenta el dinero:



4- Escribe como se leen los siguientes números:

196

\_\_\_\_\_

282

\_\_\_\_\_

304

\_\_\_\_\_

107

\_\_\_\_\_

5- Escribe el número:

a) Doscientos cincuenta y dos \_\_\_\_\_

b) Ciento cuarenta y nueve \_\_\_\_\_

c) Ciento once \_\_\_\_\_

d) Doscientos tres \_\_\_\_\_

6- Completa:

201    \_\_\_\_\_ C    \_\_\_\_\_ D    \_\_\_\_\_ U

117    \_\_\_\_\_ C    \_\_\_\_\_ D    \_\_\_\_\_ U

287    \_\_\_\_\_ C    \_\_\_\_\_ D    \_\_\_\_\_ U

7- Resuelve:

+	441	235

-	365	121

8- Resuelve:

Ana ha comprado 14 entradas para el cine, pero solo vamos 7 personas. ¿Cuántas entradas le sobra?


Le sobran\_\_\_\_\_entradas.