

Họ tên:

Lớp 1...

Toán – Tuần 8

Đánh dấu ✓ vào đáp án đúng.

I. Phần trắc nghiệm. (3 điểm)

Khoanh tròn vào chữ cái đặt trước câu trả lời đúng:

Câu 1. Số? (0,5 điểm)

0 2 4 ? 8 10

A. 5

B. 6

C. 7

D. 9

Câu 2. Số? (1,5 điểm)

a. Bên phải  có .

A. 3

B. 6

C. 5

D. 4

b. Phía sau  có .

A. 6

B. 9

C. 8

D. 10



c. Cây nào có nhiều quả nhất? (điền dấu ✓) vào dưới cây đó

Câu 3. Số? (0,5 điểm)

3 < 2 + ? < 5

A. 1

B. 2

C. 3

D. 4

Câu 4. Số? (0,5 điểm)

A. 8

B. 6

C. 7



D. 9

Có hình vuông.



II. Phần tự luận. (7 điểm)

Bài 1. Số ? (1 điểm)



Bài 2. Số ? (2 điểm)

$1 + 4 = \begin{array}{|c|c|c|} \hline & & \\ \hline & & \\ \hline & & \\ \hline \end{array}$

$4 + 4 = \begin{array}{|c|c|c|} \hline & & \\ \hline & & \\ \hline & & \\ \hline \end{array}$

$6 + 3 = \begin{array}{|c|c|c|} \hline & & \\ \hline & & \\ \hline & & \\ \hline \end{array}$

$0 + 5 = \begin{array}{|c|c|c|} \hline & & \\ \hline & & \\ \hline & & \\ \hline \end{array}$

Bài 3. Số ? (1 điểm)

$2 + \begin{array}{|c|c|c|} \hline & & \\ \hline & & \\ \hline & & \\ \hline \end{array} = 3$

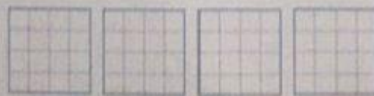
$5 = \begin{array}{|c|c|c|} \hline & & \\ \hline & & \\ \hline & & \\ \hline \end{array} + 2$

Bài 4. > ; < ; = ? (1 điểm)

$10 \begin{array}{|c|c|c|} \hline & & \\ \hline & & \\ \hline & & \\ \hline \end{array} 2 + 5$

$2 + 4 \begin{array}{|c|c|c|} \hline & & \\ \hline & & \\ \hline & & \\ \hline \end{array} 3 + 3$

Bài 5. Sắp xếp các số 5, 2, 10, 7 theo thứ tự từ lớn đến bé: (1 điểm)



Bài 6. Viết phép tính thích hợp với bức tranh: (1 điểm)

