



ASIGNATURA: MATEMÁTICA

EVALUACIÓN BLOQUE 1

1. Completa las siguientes secuencias por sumas según corresponda.

Sequence 1: 2, $+2$, $+4$, $+3$, $+2$, $+5$, $+3$, $+1$, Star

Sequence 2: 4, $+3$, $+4$, $+2$, $+2$, $+3$, $+2$, $+5$, Star

Sequence 3: 7, $+3$, $+4$, $+5$, $+2$, Star

Sequence 4: 5, $+1$, $+2$, $+2$, $+4$, $+1$, $+2$, $+2$, Star

2. Completa la siguiente secuencia de forma creciente hasta el 99.

| | | | | | | | | | |
|----|----|----|----|----|----|----|----|----|-----|
| | 2 | | | | 6 | | | | 10 |
| | | | 14 | | | 17 | | 19 | |
| 21 | | | | | 26 | | | | |
| | | 33 | | | | | 38 | | 40 |
| | | | | 45 | | | | 49 | |
| | 52 | | | | | 57 | | | |
| | | | 64 | | | | | | 70 |
| | | | | | 76 | | | | |
| 81 | | 83 | | | | | 88 | | |
| | | | | 95 | | 97 | | | 100 |

3. Completa los siguientes recuadros con el número que haga falta.

| | | | | | |
|--|----|--|---|----|--|
| | 25 | | | 83 | |
| | 76 | | | 45 | |
| | 15 | |  | 30 | |
| | 44 | | | 24 | |
| | 29 | | | 81 | |
| | 65 | | | 49 | |
| | 38 | | | 97 | |
| | 71 | | | 60 | |
| | 99 | | | 88 | |

























4. Completa las siguientes secuencias por restas según corresponda.

| | | | | | | | | | | | | | | | |
|----|----|--|----|--|----|--|----|--|----|--|----|--|----|--|--|
| 24 | -2 | | -4 | | -3 | | -4 | | -1 | | -4 | | -2 | | |
| 40 | -9 | | -2 | | -6 | | -3 | | -4 | | -1 | | -2 | | |
| 18 | -6 | | -2 | | -4 | | -3 | | | | | | | | |
| 36 | -3 | | -4 | | -3 | | -2 | | -3 | | -9 | | -2 | | |

5. Escribe el nombre de las siguientes cantidades.

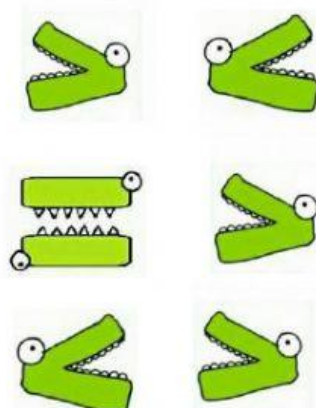
| | |
|----|--|
| 45 | |
| 23 | |
| 18 | |
| 5 | |
| 31 | |
| 19 | |
| 20 | |
| 48 | |

6. Con ayuda de tus dedos realiza las siguientes adiciones.

| | |
|--|--|
|  +  = <input type="text"/> |  +  = <input type="text"/> |
|  +  = <input type="text"/> |  +  = <input type="text"/> |
|  +  = <input type="text"/> |  +  = <input type="text"/> |
|  +  = <input type="text"/> |  +  = <input type="text"/> |
|  +  = <input type="text"/> |  +  = <input type="text"/> |
|  +  = <input type="text"/> |  +  = <input type="text"/> |

7. Compara las cantidades y coloca el signo de (mayor que -menor que) según corresponda.

| | | |
|----|----------------------|----|
| 89 | <input type="text"/> | 98 |
| 85 | <input type="text"/> | 42 |
| 45 | <input type="text"/> | 12 |
| 87 | <input type="text"/> | 99 |
| 28 | <input type="text"/> | 28 |
| 99 | <input type="text"/> | 1 |



8. Escribe el nombre de cada uno de los números ordinales del helado.



| |
|--|
| |
| |
| |
| |
| |
| |
| |
| |
| |
| |