







EVALUACIÓN SUMATIVA MATEMÁTICA CUARTO AÑO BÁSICO

Nombre:				
Curso	Fecha	Puntaje Ideal	Puntaje obtenido	NOTA
4° año Básico		34		
Objetivos de aprendizaje priorizados: OA15				
Contenidos		Habilidades		
Localización de objetos en mapas simples		Identificar, diferenciar, aplicar, observar, registrar.		

INSTRUCCIONES

- I. Con la información que se presenta en el plano, responde las preguntas 1, 2 y 3, marcando con una X la alternativa correcta (1 punto cada respuesta correcta)

	A	B	C	D	E
1					
2					
3					
4					
5					

1. ¿Qué fruta se encuentra ubicada en la posición C3?

A) Un plátano. C) Una naranja.
B) Una manzana.

2. ¿Cuántas frutas se encuentran ubicadas en la fila 1?

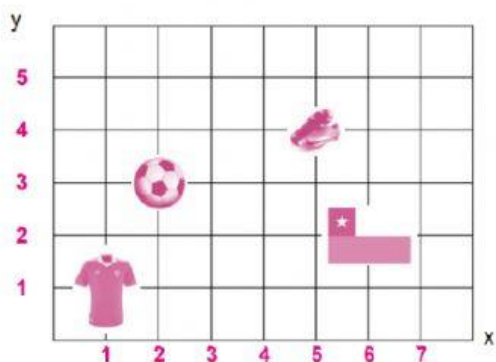
A) Dos. C) Ninguna.
B) Tres.

3. ¿En qué posición se encuentra ubicada la pera?

A) (A,5) C) (E,2)
B) (D,4)



4. ¿Cuál es la ubicación de la pelota en esta cuadrícula?

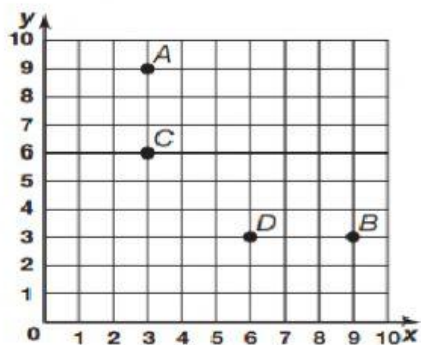


A) (1,1).

B) (3,2).

C) (2,3).

5. ¿Qué letra representa (9, 3)?

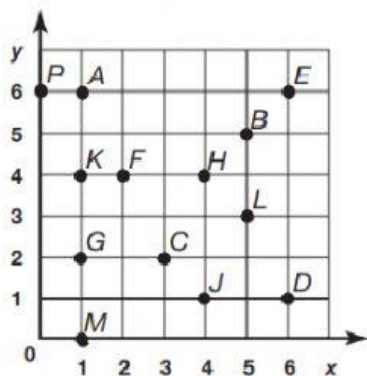


A) A

B) B

C) C

II. Usa el gráfico de la derecha para responder (1 punto cada localización correcta).



Escribe la letra del punto que representa cada localización.

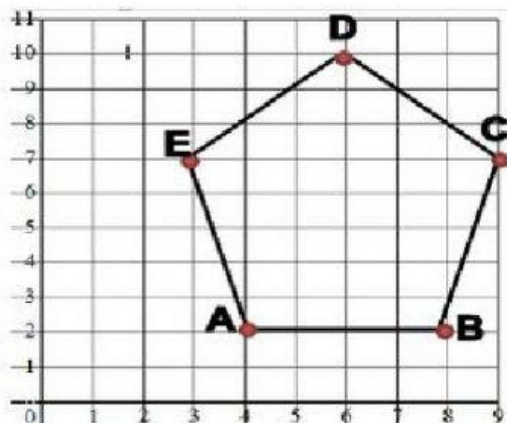
A) (5, 5) _____

B) (6, 6) _____

C) (2, 4) _____

D) (5, 3) _____

III. Determina los pares ordenados correspondientes a cada vértice del polígono (2 puntos cada respuesta correcta)



Pares ordenados:

A = (,)

B = (,)


C = (,)

D = (,)

E = (,)

IV. Observa la cuadrícula y dibuja en ella los siguientes objetos, según las posiciones que se indican. (2 puntos cada ejercicio correcto)


- A) Un barco en la posición F2
- B) Una palmera en la posición B1
- C) Un quitasol en la posición C5.
- D) Una pelota en la posición D3.
- E) Una toalla en A4.





V. Escribe en el plano el **NOMBRE** de cada uno de los lugares que se describen. (1 punto cada respuesta correcta)

- a. En el centro se encuentra la plaza.
- b. Frente a la plaza se encuentra la verdulería.
- c. A la izquierda de la verdulería se encuentra el hospital y a la derecha la heladería.
- d. Al frente del hospital se encuentra la biblioteca y arriba Carabineros.
- e. A la derecha de la plaza y frente a la heladería se encuentra el colegio.



NO IMPORTA LO LENTO
QUE VAYAS MIENTRAS
QUE NO PARES

Libro para todos