
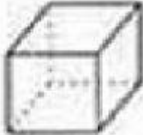
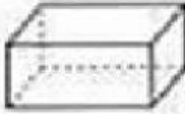
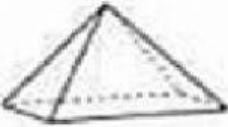





LATIHAN BENTUK TAHUN 2



NAMA:.....
KELAS:.....

Lengkapkan jadual di bawah.

Bentuk 3D	Nama	Muka rata	Muka lengkung	Tepi	Bucu
			0		8
			0		
		5		8	
				0	
				0	
		0		0	0

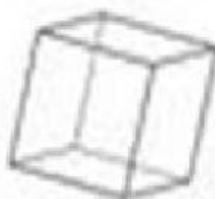


Padankan bentuk 3D dengan objek menyerupainya



•

•




•

•



•

•



•

•



•

•



•

•



Isikan tempat kosong ciri bentuk 3D diberi




Nama bentuk:.....

Muka rata:.....

Muka Lengkung:.....

Tepi:.....

Bucu:.....



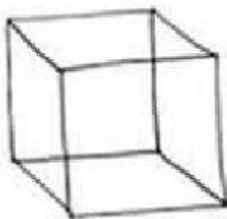
Nama bentuk:.....

Muka rata:.....

Muka Lengkung:.....

Tepi:.....

Bucu:.....



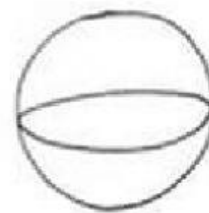
Nama bentuk:.....

Muka rata:.....

Muka Lengkung:.....

Tepi:.....

Bucu:.....



Nama bentuk:.....

Muka rata:.....

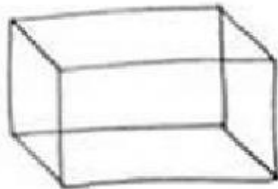
Muka Lengkung:.....

Tepi:.....

Bucu:.....



Isikan tempat kosong ciri bentuk 3D diberi



Nama bentuk:.....

Muka rata:.....

Muka Lengkung:.....

Tepi:.....

Bucu:.....



Nama bentuk:.....

Muka rata:.....

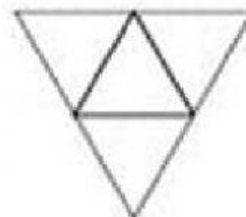
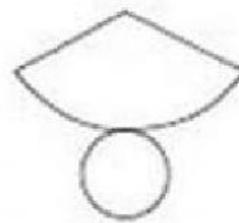
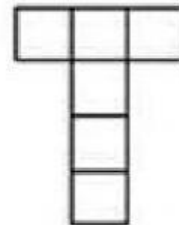
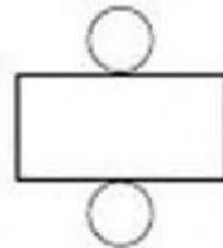
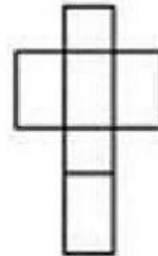
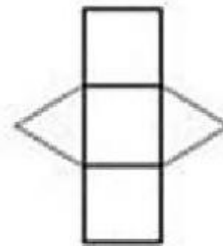
Muka Lengkung:.....

Tepi:.....

Bucu:.....

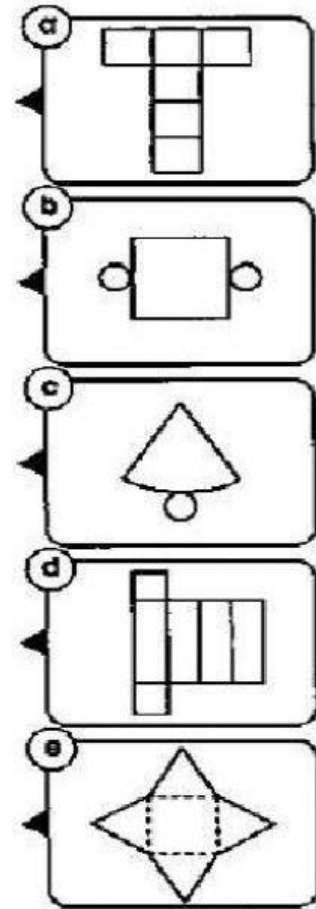
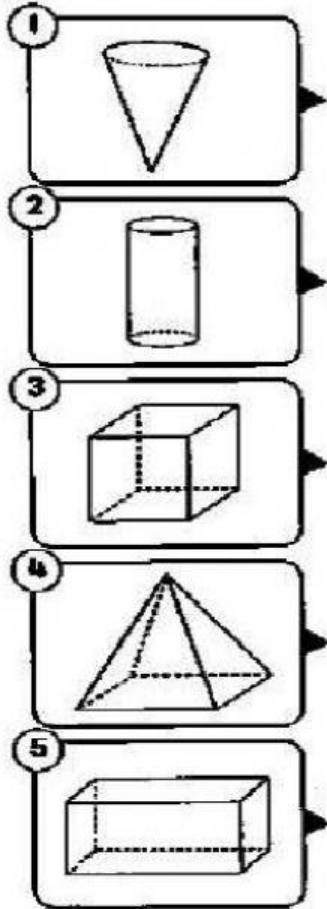


Padankan bentuk 3d dengan bentangan yang betul



7 A

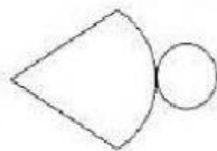
Padankan bentuk 3D dengan bentangan yang sepadan.



7 B



Selesaikan.

a. Gambar dibawah ialah 2 permukaan yang ada pada satu bentuk 3D. Apakah bentuk 3D itu?






b. Salmi jual kek di dalam bekas. Bekas itu ada 6 permukaan rata. Nyatakan bentuk permukaan itu.

NAMAKAN BENTUK BERIKUT



KENAL PASTI BENTUK 2 D

Cuba lengkapkan jadual berikut

Ciri			Bentuk	Nama bentuk
Bilangan sisi lurus	Bilangan sisi melengkung	Bilangan bucu		
				<input type="text"/>
				<input type="text"/>
				<input type="text"/>
				<input type="text"/>