

Lembar Kerja Siswa


Hari/ tanggal : Kamis, 28- 10 - 2021



Nama :

Kelas:


pilihlah bilangan yang sesuai dengan jumlah titik pada kumbang berikut ini!




1	4	7
---	---	---



5	3	7
---	---	---




9	5	8
---	---	---



9	6	2
---	---	---



8	4	3
---	---	---




5	1	6
---	---	---



3	9	8
---	---	---



10	7	6
----	---	---



1	2	4
---	---	---

Pilihlah gambar benda yang sesuai dengan bentuk geometri berikut ini!

