



Institución Educativa Privada
"Leónidas Yerovi"

Examen Virtual Septiembre 2021

Personal Social

Nombres y Apellidos :

Fecha :

Grado : 4to

Nivel : Primaria

1) ¿De qué manera representan los Planos?

- a) Mapas b) Dibujos c) Imágenes

2) ¿Qué es lo que se debe buscar siempre en los Planos?

- a) Flecha que señale al Norte b) Flecha que señale al Sur c) Leyendas

3) ¿Cómo se llama la Línea Horizontal que está en la Mitad de la Tierra?

- a) Hemisferio Norte b) Hemisferio Sur c) Línea Ecuatorial


4) ¿Marque los Paralelos que se encuentra en el Norte del Ecuador?

- a) Trópico de Capricornio b) Trópico de Cáncer c) Círculo Polar Ártico

5) ¿Marque los Paralelos que se encuentra en el Sur del Ecuador?

- a) Trópico de Capricornio b) Trópico de Cáncer c) Círculo Polar Antártico

6) Colocar los Nombres de los Paralelos Correspondiente al Mundo



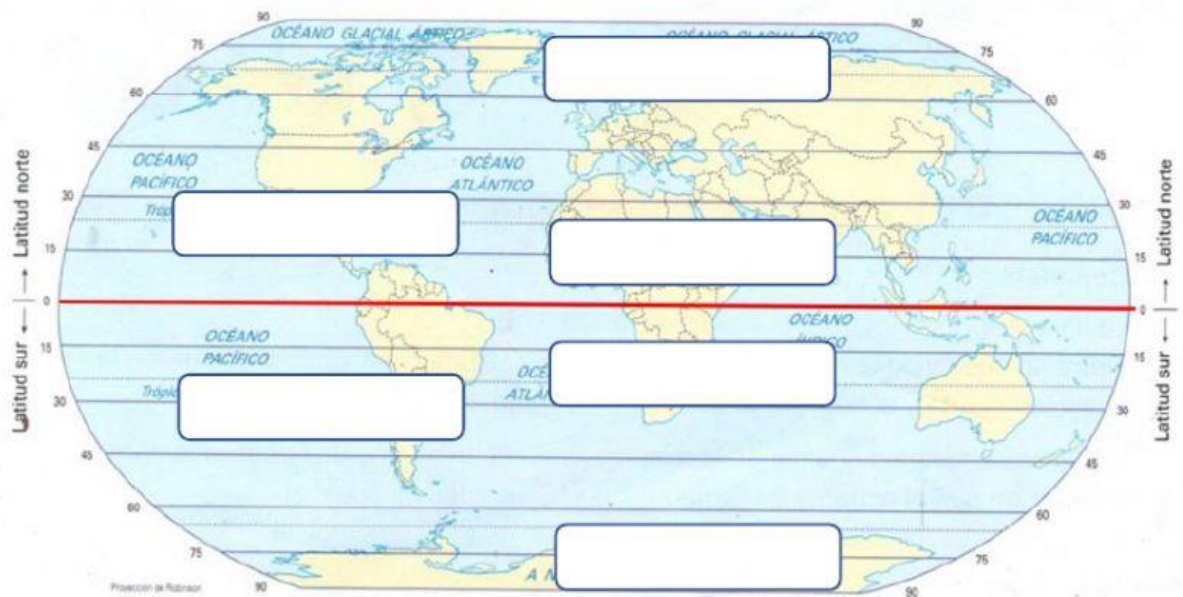
Círculo P. Ártico

T. Cáncer

C. Polar Antártico

T. Capricornio

7) Coloque los Nombres de los Hemisferios y los Paralelos según corresponda



Hemisferio Sur

Círculo P. Ártico

Hemisferio Norte

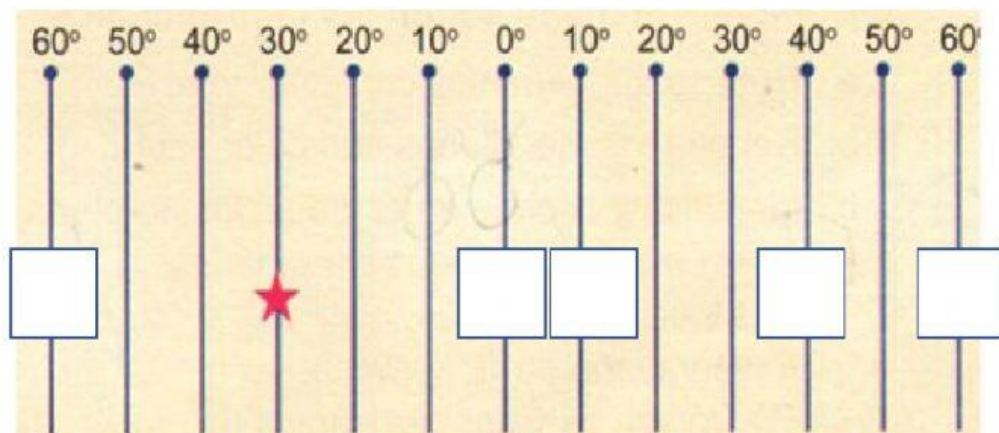
Trópico de Capricornio

Círculo P. Antártico

Trópico de Cáncer

8) ¿Coloque las figuras correspondientes a cada línea según se indica?

- ❖ Una luna en el Meridiano 0°
- ❖ Una Estrella en el Meridiano 30° Oeste
- ❖ Un Sol en el Meridiano 60° Este
- ❖ Un círculo en el Meridiano 10° Este
- ❖ Un Triángulo en el Meridiano 40° Este
- ❖ Un Cuadrado en el Meridiano 60° Oeste



Profesor : Hitler Hidalgo Ruiz