

LAS FRACCIONES

1. ARRASTRA LAS PARTES DE UNA FRACCIÓN



DENOMINADOR

NUMERADOR

$\frac{2}{3}$	<input type="text"/>	$\frac{5}{8}$
$\frac{3}{2}$	<input type="text"/>	$\frac{8}{5}$

2. COLOCA LAS FRACCIONES PROPIAS E IMPROPIAS

PROPIAS

<input type="text"/>	<input type="text"/>	<input type="text"/>	<input type="text"/>
----------------------	----------------------	----------------------	----------------------

$\frac{2}{3}$	$\frac{4}{3}$	$\frac{2}{5}$	$\frac{6}{5}$
$\frac{8}{6}$	$\frac{4}{8}$	$\frac{1}{2}$	$\frac{9}{3}$

IMPROPIAS

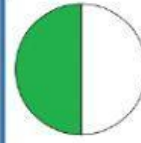
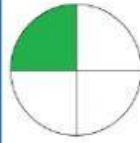
<input type="text"/>	<input type="text"/>	<input type="text"/>	<input type="text"/>
----------------------	----------------------	----------------------	----------------------

3. COLOCA EL NOMBRE Y EL DIBUJO DE CADA FRACCIÓN

$\frac{1}{2}$
 $\frac{1}{3}$
 $\frac{1}{4}$

<input type="text"/>	<input type="text"/>
<input type="text"/>	<input type="text"/>
<input type="text"/>	<input type="text"/>

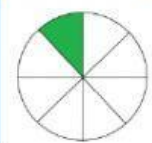
UN MEDIO



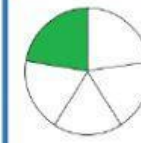
UN CUARTO



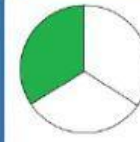
UN QUINTO



UN TERCIO



UN OCTAVO



UN SEXTO


$\frac{1}{5}$
 $\frac{1}{6}$
 $\frac{1}{8}$

<input type="text"/>	<input type="text"/>
<input type="text"/>	<input type="text"/>
<input type="text"/>	<input type="text"/>

4. UNE CON FLECHAS LA FRACCIÓN Y SU NOMBRE



5. UNE CON FLECHAS LA FRACCIÓN Y SU REPRESENTACIÓN



6. ESCRIBE CÓMO SE LEE CADA FRACCIÓN

$\frac{1}{3}$	<input type="text" value="UN TERCIO"/>	$\frac{2}{5}$	<input type="text"/>	$\frac{3}{7}$	<input type="text"/>
$\frac{2}{3}$	<input type="text"/>	$\frac{4}{5}$	<input type="text"/>	$\frac{6}{8}$	<input type="text"/>
$\frac{3}{4}$	<input type="text"/>	$\frac{5}{6}$	<input type="text"/>	$\frac{5}{9}$	<input type="text"/>

7. PULSA LOS CUADRITOS PARA REPRESENTAR LAS FRACCIONES



$\frac{2}{3}$  Ejemplo

$\frac{3}{3}$

$\frac{1}{4}$

$\frac{5}{5}$

$\frac{3}{5}$

$\frac{2}{6}$

$\frac{4}{6}$

$\frac{6}{7}$