



## DESARROLLO DEL PENSAMIENTO

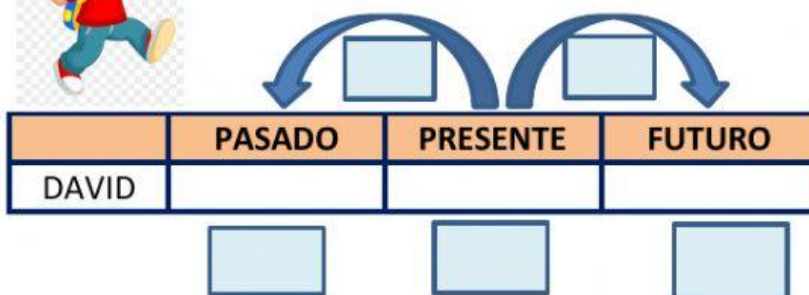
Nombre y apellidos: .....

Curso: .....

Fecha: .....

### ACTIVIDAD 3: PROBLEMAS DE EDADES RELACIONADOS AL TIEMPO CON PASADO, PRESENTE Y FUTURO

1.- Si dentro de 5 años la edad de David será el triple que la que tenía hace 3 años. *¿Qué edad tendrá dentro de 2 años?*




**RESPUESTA:** Dentro de 2 años David tendrá:

4 años

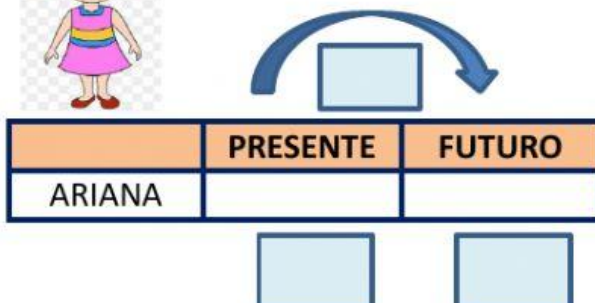
7 años

9 años

12 años

16 años

2.- Si dentro de 8 años Ariana tendrá el triple de la edad que tiene ahora, *¿Qué edad tiene ahora Ariana?*



Ecuación:

Traspaso

Resuelvo

Traspaso

Resuelvo


**RESPUESTA:** Ahora, Ariana tiene:

4 años

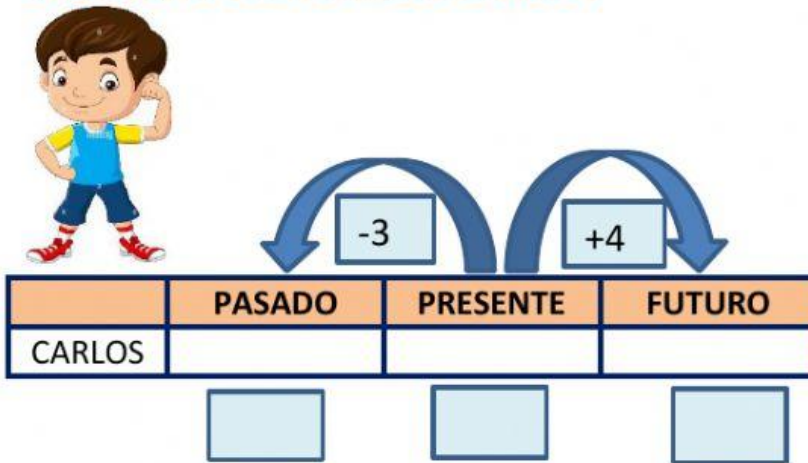
5 años

7 años

10 años

12 años

3.- Carlos afirma que la suma de su edad actual y la edad que tendrá dentro de 4 años es igual al triple de su edad de hace 3 años. ¿Cuántos años tenía Carlos hace 3 años?


**RESPUESTA:** Hace 3 años Carlos tenía:

3 años

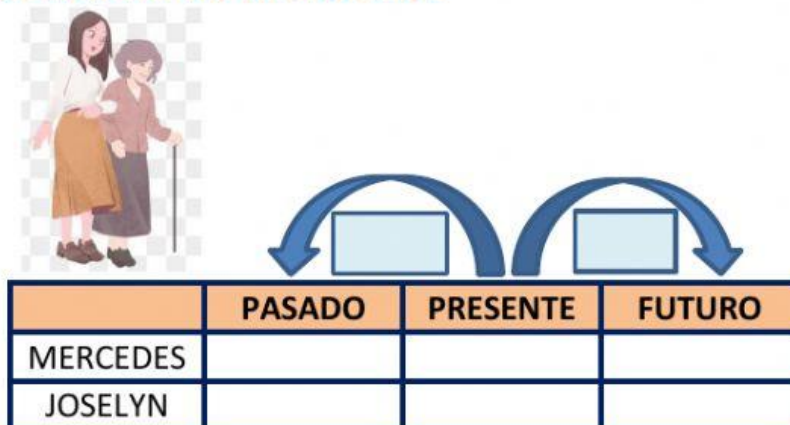
6 años

9 años

10 años

17 años

4.- Mercedes le dice a Joselyn, dentro de 6 años mi edad será el triple de tu edad, pero hace dos años era el cuádruple, ¿Qué edad tiene actualmente Mercedes?


**RESPUESTA:** Mercedes actualmente tiene:

12 años

24 años

36 años

66 años

72 años