






الاسم: ..... أوراق عمل فردية الصف: الثالث ( )

ورقة عمل الأعضاء و العضلات

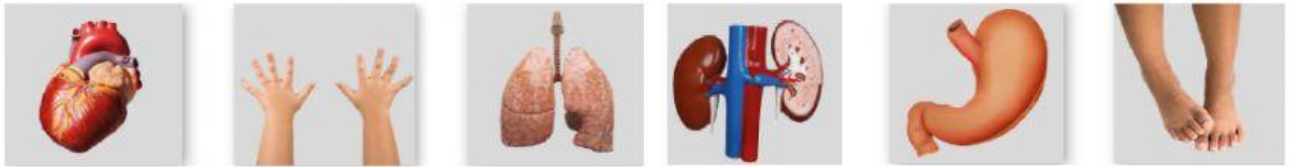
السؤال الأول

1. أين توجد العضلات في جسم الإنسان؟ .....
2. كيف توجد العضلات في جسم الإنسان؟ .....
3. كيف تعمل العضلات؟ .....

السؤال الثاني سمي الأعضاء و اكتب وظيفة كلا منها في الجدول التالي:

					
					الإسم
					الوظيفة

السؤال الثالث : ضع دائرة حول الأجزاء الخارجية في جسم الإنسان:



السؤال الرابع : أكمل ما يلي

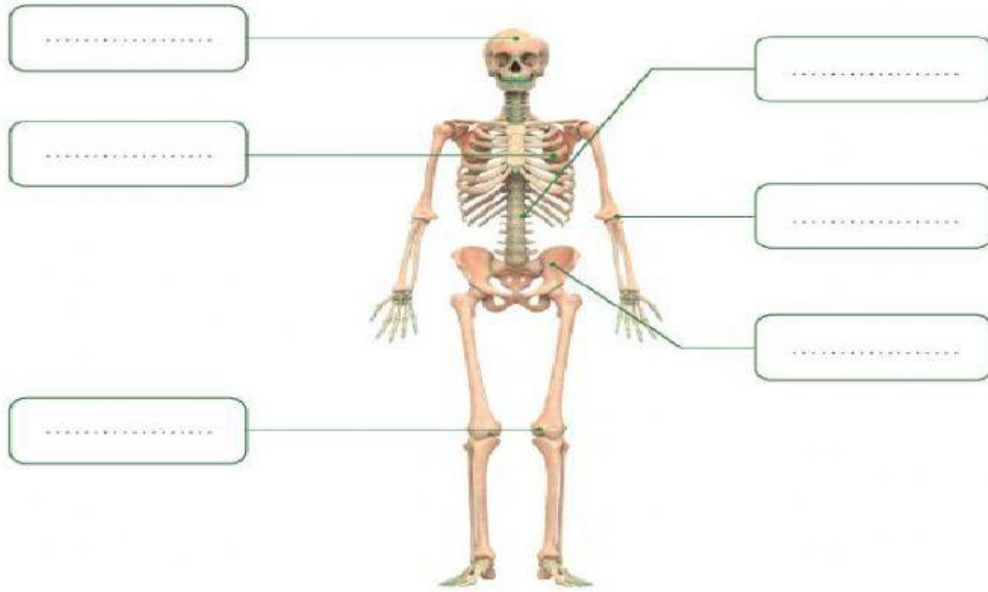
- (a) تأخذ الرنتين غاز ..... أثناء الشهيق و يخرج غاز ..... عند الزفير
- (b) ماذا يحدث عندما يتوقف القلب عن العمل؟ .....
- (c) تتبع رحلة الطعام في الجهاز الهضمي بدءا من الفم؟
  - 1) .....
  - 2) .....
  - 3) .....
  - 4) .....
  - 5) .....

الاسم: ..... أوراق عمل فردية الصف: الثالث ( )

## ورقة عمل الهيكل العظمي

السؤال الأول سمى أجزاء الهيكل العظمي مستخدماً الكلمات الموجودة في الصندوق التالي:

الجمجمة	الركبة	الضلوع	العمود الفقري	المرفق	الحوض
---------	--------	--------	---------------	--------	-------



(2) عدد وظائف الهيكل العظمي

- .....
- .....
- .....

(3) أي أجزاء الهيكل العظمي يحمي الأعضاء التالية:



.....