

ENSINO REMOTO

CADERNO DE ATIVIDADES

Ensino Fundamental

Anos Iniciais | 3º ano



Escola:	Turma:	Data:
Nome:	Turno:	











- Caderno de Atividades N° 11 -

MATEMÁTICA²

DESLOCAMENTOS: COMO VOU PARA OS LUGARES?

OLÁ TURMINHA, NA AULA ANTERIOR ESTUDAMOS A LOCALIZAÇÃO E OS DESLOCAMENTOS DE PESSOAS E OBJETOS NO ESPAÇO. HOJE VAMOS APRENDER A DESCREVER LOCALIZAÇÕES A PARTIR DE PONTOS DE REFERÊNCIA.

1. NO QUADRO A SEGUIR, AS LINHAS SÃO IDENTIFICADAS POR LETRAS MAIÚSCULAS E AS COLUNAS, POR NÚMEROS.

A					
B					
C					
D					
E					
	1	2	3	4	5

PARA LOCALIZAR CADA UMA DAS IMAGENS APRESENTADAS NO QUADRO, PRIMEIRO, IDENTIFIQUE O NÚMERO CORRESPONDENTE A SUA COLUNA E, EM SEGUIDA, A LETRA CORRESPONDENTE À SUA LINHA.


VEJA O EXEMPLO A SEGUIR:  : 2B


ATIVIDADE ADAPTADA – FONTE: <https://portal.educacao.go.gov.br/wp-content/uploads/2021/02/Atividade-2-Tema-Localizacao-e-movimentacao-representacao-de-objetos-e-pontos-de-referencia-3o-ano.pdf>

²APRENDIZAGEM: identificar e descrever a localização e os deslocamentos de pessoas e objetos no espaço considerando mais de um ponto de referência e incluindo mudanças de direção.

2. SEGUINDO O EXEMPLO ACIMA, ESCREVA AS LOCALIZAÇÕES DE CADA UMA DAS IMAGENS A SEGUIR.

a.  : _____

b.  : _____





c.  : _____

d.  : _____

e.  : _____

ATIVIDADE ADAPTADA – FONTE: <https://portal.educacao.go.gov.br/wp-content/uploads/2021/02/Atividade-2-Tema-Localizacao-e-movimentacao-representacao-de-objetos-e-pontos-de-referencia-3o-ano.pdf>

3. OBSERVE A REPRESENTAÇÃO DAS POSIÇÕES OCUPADAS PELOS ANIMAIS NO QUADRO ABAIXO:

A					
B					
C					
D					
E					
	1	2	3	4	5

A. ()

C. ()

B. ()

D. ()

ATIVIDADE ADAPTADA – FONTE: <https://portal.educacao.go.gov.br/wp-content/uploads/2021/02/Atividade-2-Tema-Localizacao-e-movimentacao-representacao-de-objetos-e-pontos-de-referencia-3o-ano.pdf>

4. OBSERVE A REPRESENTAÇÃO A SEGUIR:



IMAGEM FONTE: <https://portal.educacao.go.gov.br/wp-content/uploads/2021/02/Atividade-2-Tema-Localizacao-e-movimentacao-representacao-de-objetos-e-pontos-de-referencia-3o-ano.pdf>

• QUANTAS RUAS SÃO NECESSÁRIAS ATRAVERSSAR PARA IR DA ESCOLA À BIBLIOTECA A PÉ E PELO CAMINHO MAIS CURTO?

A) UMA B) DUAS C) TRÊS D) QUATRO

• A BIBLIOTECA ESTÁ LOCALIZADA...

- A) ATRÁS DO RESTAURANTE
- B) AO LADO DO CINEMA
- C) EM FRENTE AO HOTEL
- D) AO LADO DO SUPERMERCADO