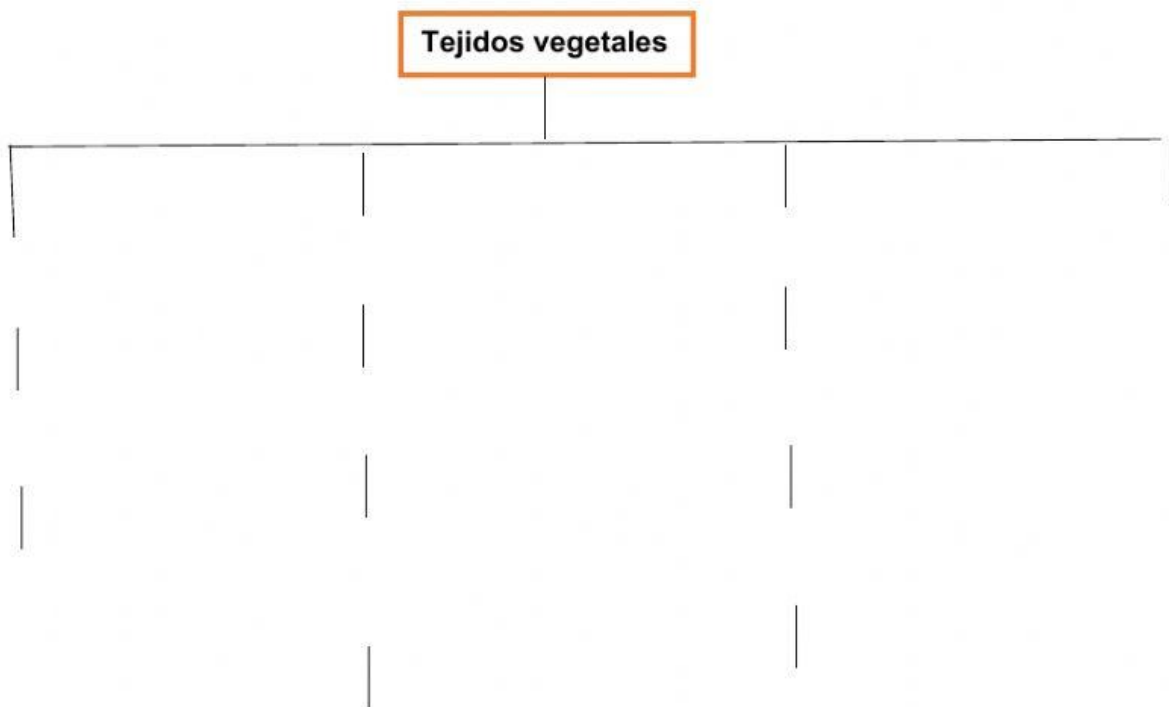
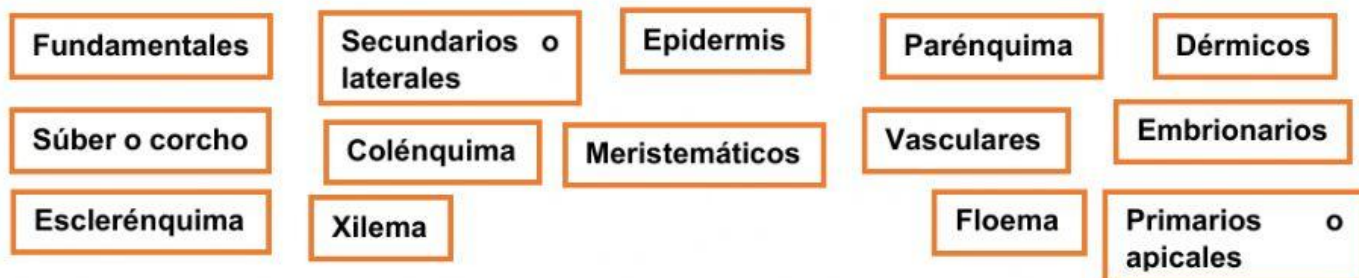




Asignatura: Ciencias Naturales 9° grado

Nombre: _____

Instrucciones: Organice el esquema con la clasificación de los tejidos vegetales, arrastrando cada palabra



II. Una con una línea el tipo de tejido con su función.

Fundamentales

Sirven para almacenar nutrientes, realizar fotosíntesis y dar soporte a las plantas.

Floema

Son los responsables del crecimiento de las plantas.

**Primarios-
apicales**

Se encargan de recubrir y proteger el cuerpo de las plantas.

Meristemáticos

Son los responsables del transporte de sustancias a través del cuerpo de las plantas.

Esclerénquima

Cubre las hojas y las partes jóvenes de las plantas.

Dérmicos

Se sitúan en los extremos de las plantas, como los brotes de ramas y raíces.

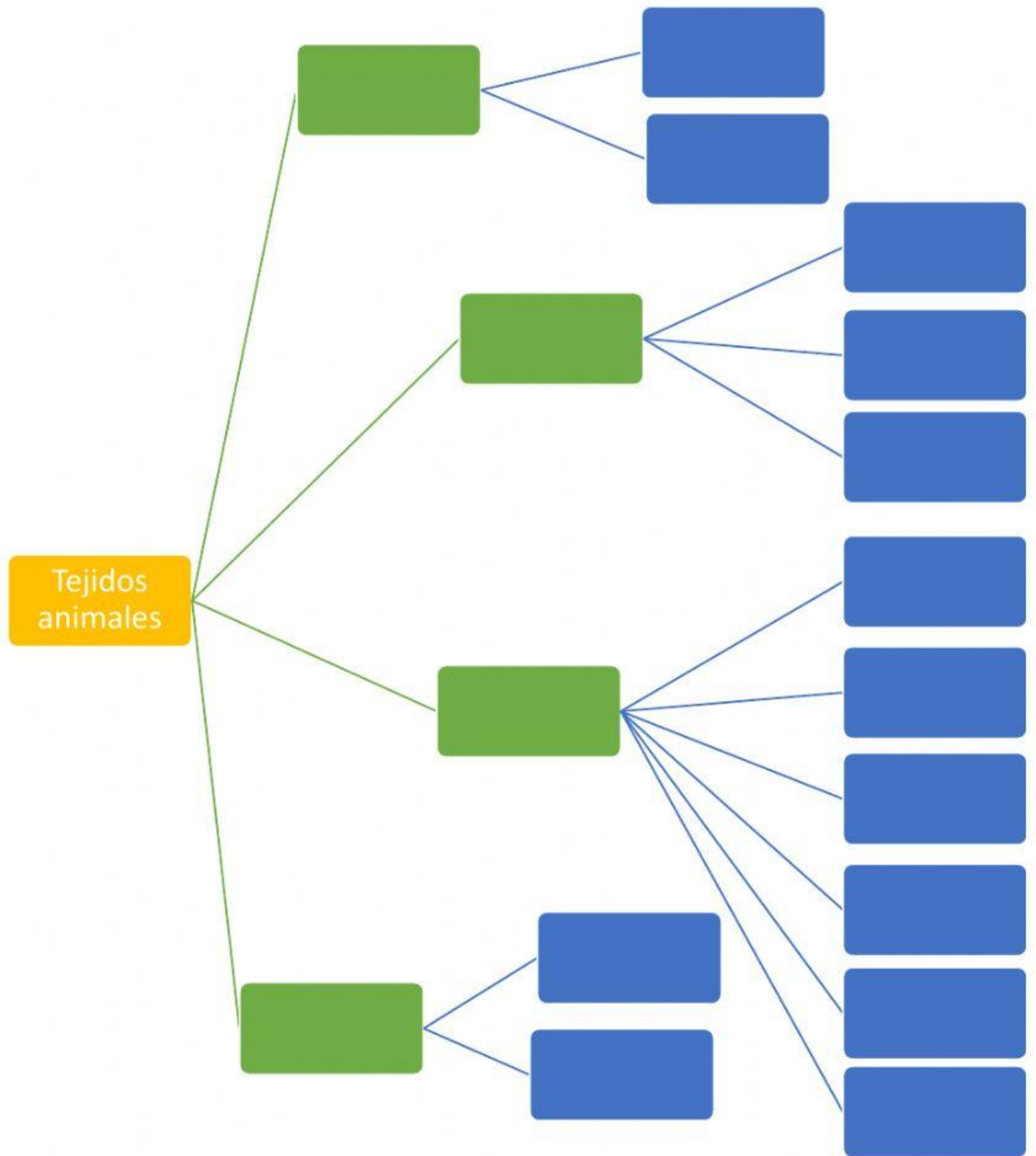
Epidermis

Se compone de células extremadamente gruesas formadas por lignina y se encuentra en partes de la planta que ya ha terminado su crecimiento.

Conductores

Es el responsable de transportar la savia elaborada, se encuentra en la periferia de los tallos.

III. Seleccione y complete el siguiente esquema.



IV. Identifique cada tipo de tejido animal y arrastre las palabras donde corresponde.

Tejido óseo

Tejido sanguíneo

Tejido adiposo

Tejido muscular

Tejido nervioso

