

 <p>Generalitat de Catalunya Departament d'Agricultura, Ramaderia, Pesca i Alimentació Escola Agrària de Gandesa</p>	<p>CFGM Olis d'oliva i vins Mòdul 2 UF 5 NF: 2 Curs 2021/22</p>	<p>CODI: EX_MP</p>
--	---	---------------------------------

Mòdul Professional: ELABORACIÓ DE VINS
UF5: NF2 VINIFICACIONS ESPECIALS

Com fem una mistela o un vi dolç natural? endreça les diferents imatges formant un diagrama de flux, fica a quin procés correspon, (Des fangem, Premsem, Apagem, Recol·lectem, Addició de enzims, Homogeneïtzem, Sulfitem, Fem coupatges, Estabilitzem, Embotellem, refrigerem, Filtrem, Comercialitzem, Des rrapem)



	<p>Versió: 3</p>	<p>OneDrive - Generalitat de Catalunya\QUALITAT\Registres\9_Formacio_inicial\Models_i_plantilles\Recursos_c_lasse</p>	<p>Pàgina 1 de 3 CURS 2021 / 2022</p> 
<p>Aprovat en comissió de qualitat 21/10/21</p>			


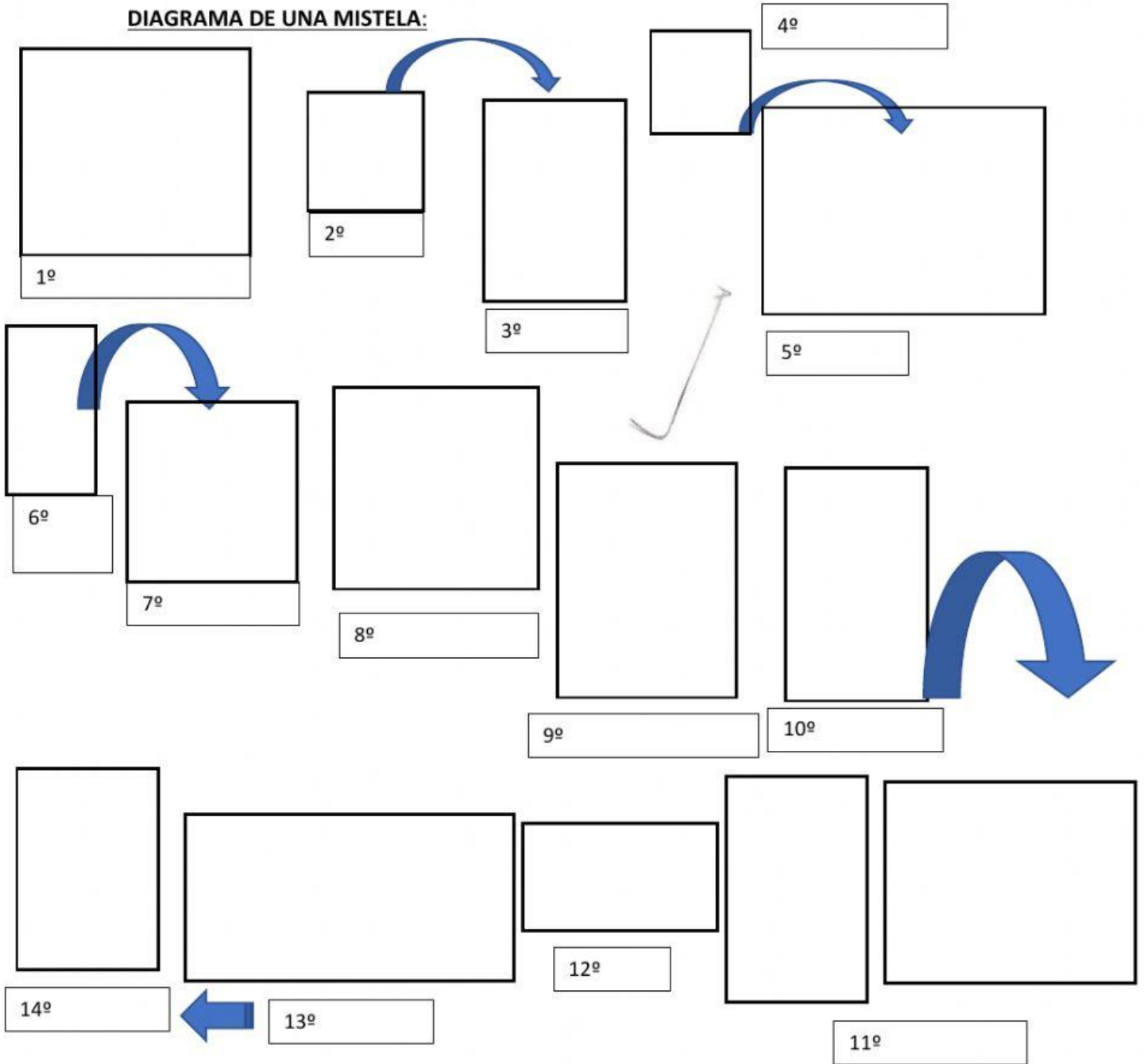


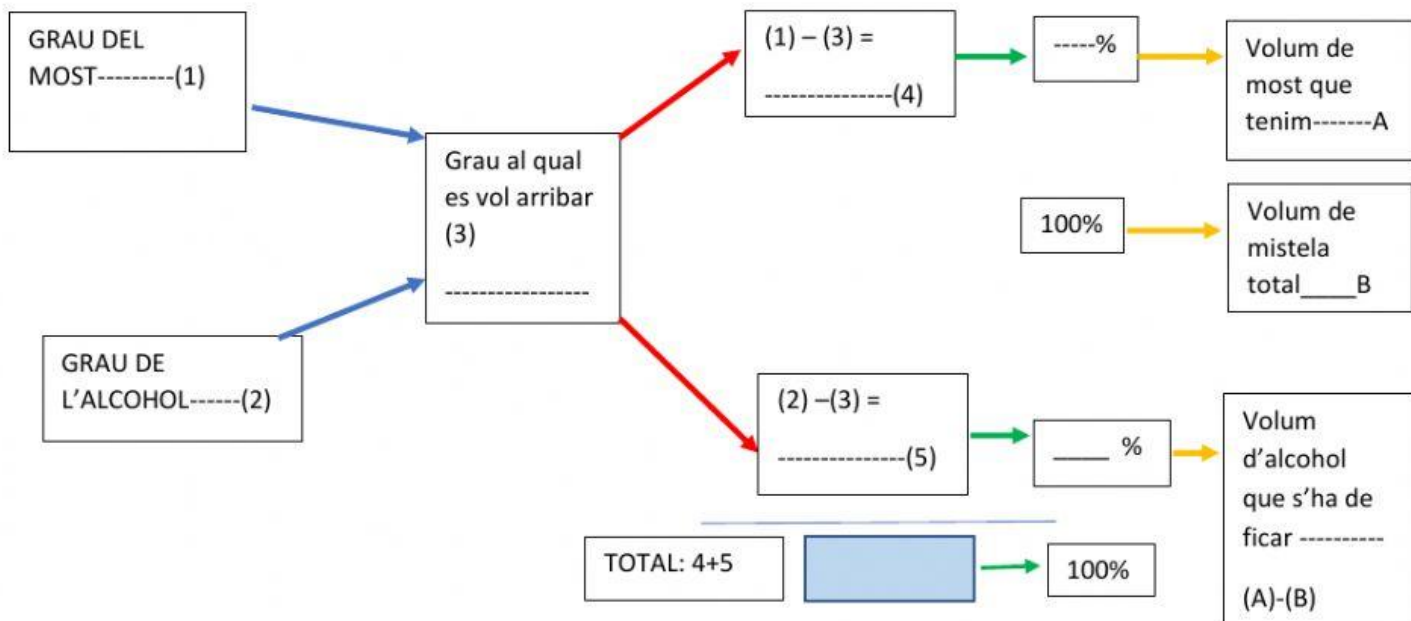
 Generalitat de Catalunya Departament d'Agricultura, Ramaderia, Pesca i Alimentació Escola Agrària de Gandesa	CFGM Olis d'oliva i vins Mòdul 2 UF 5 NF: 2 Curs 2021/22	CODI: EX_MP
---	--	----------------

DIAGRAMA DE UNA MISTELA:



	Versió: 3	OneDrive - Generalitat de Catalunya\QUALITAT\Registres\9_Formacio_inicial\Models_i_plantilles\Recursos_c_lasse	Pàgina 2 de 3 CURS 2021 / 2022 
Aprovat en comissió de qualitat 21/10/21			

Completa aquesta creu i demostra que la domines, per calcular els litres d'alcohol que es van ficar!!



Omple els següent requadre d'informació:

DATA	Tipus de raïm	KG	VOLUM de most	Sofre g	Enzims ml	Kg de pasta	Litres de alcohol	Densitat constant	Volum total de mistela

Que voldria dir que la densitat baixes d'un dia per un altre?
