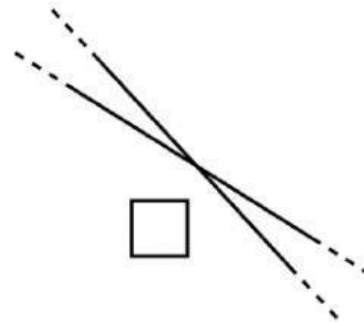
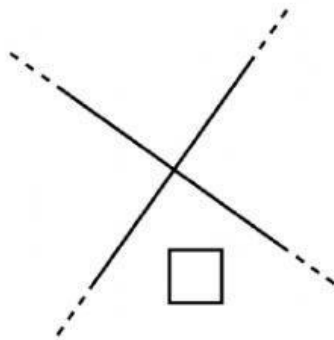
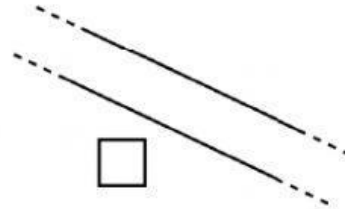
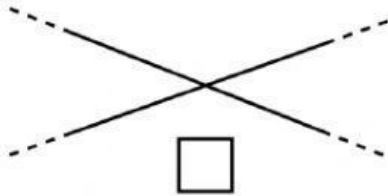


## LE RETTE NEL PIANO – ESERCIZI

### ESERCIZIO N. 1

INDICA CON UNA X SOLO LE RETTE INCIDENTI.



### ESERCIZIO N. 2

SCEGLI CON UNA X LA RISPOSTA CORRETTA.

- DUE RETTE SONO PERPENDICOLARI QUANDO INCONTRANDOSI FORMANO:

QUATTRO ANGOLI RETTI

QUATTRO LATI

- DUE RETTE PERPENDICOLARI HANNO IN COMUNE:

UN SOLO PUNTO

INFINITI PUNTI

### ESERCIZIO N. 3

SVOLGI SUL QUADERNO IL SEGUENTE ESERCIZIO:

PARTENDO DALLE DUE RETTE DISEGNATE QUI SOTTO, CON L'USO DEL RIGHELLO E DELLA SQUADRA COME SPIEGATO NEL VIDEO, DISEGNA UNA RETTA PERPENDICOLARE.

**RICORDA CHE ALLA FINE DEVI RICAIVARE 4 ANGOLI DI 90°.**

