



Lee las características y ubícalas arrastrando en el recuadro que corresponda.

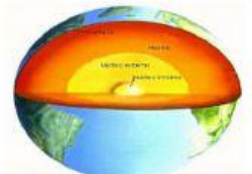
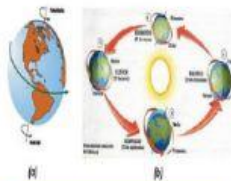
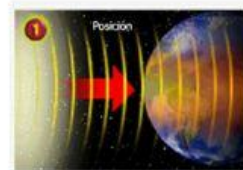
1.- La visión del planeta como sistema se caracteriza por:

Ámbito.

Estructura.

Dinámica.

2.- Escribe las cuatro geosferas del planeta Tierra.



Evolución.

Estructura.

Equilibrio.

Dinámica.

Ámbito.

4.-Identifica las definiciones de las Mareas Vivas o Pleamar y de las Mareas Muertas o Bajamar.

Mareas Vivas o  
Pleamar.

En las fases creciente y menguante de la Luna,  
cuando el mar alcanzan su altura más baja

Mareas Muertas o  
Bajamar.

Cuando la luna nueva o llena, el Sola, la Luna y la  
Tierra se alinean y el mar alcanza su altura más  
alta .

5.- Identifica el Perihelio y el Afelio en la órbita de la Tierra.

