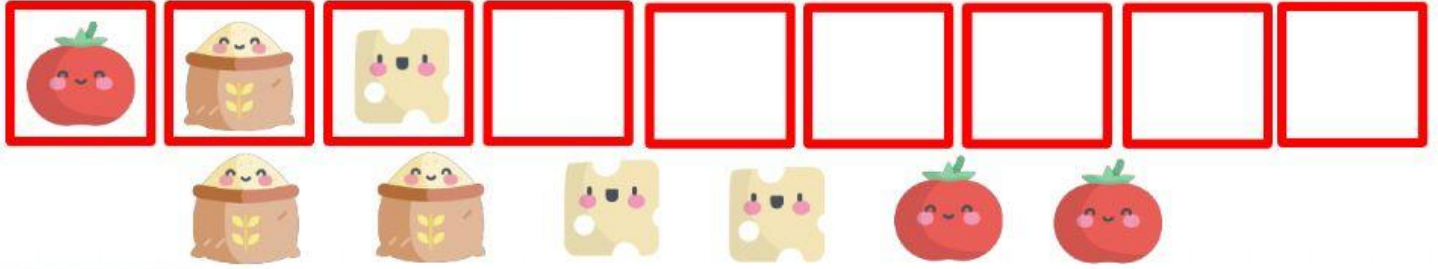




## ACTIVIDAD 2

¡Debemos echar los ingredientes con mucho cuidado! ¡Sigue la serie arrastrando cada alimento hasta su cuadrado correspondiente!



















## ACTIVIDAD 3

Observa lo que vale cada ingrediente, calcula y escribe el resultado para cada operación. **ATENCIÓN A LOS SIGNOS: SUMA (+), RESTA (-), MULTIPLICACIÓN (X)**

Ingrediente	VALOR
	2
	3
	4
	5
	6
	10

### OPERACIONES

 <b>x</b>  = <input type="text"/>	 <b>x</b>  = <input type="text"/>
 <b>+</b>  = <input type="text"/>	 <b>+</b>  = <input type="text"/>
 <b>-</b>  = <input type="text"/>	 <b>x</b>  = <input type="text"/>
 <b>x</b>  = <input type="text"/>	 <b>+</b>  = <input type="text"/>

@peti.pete