

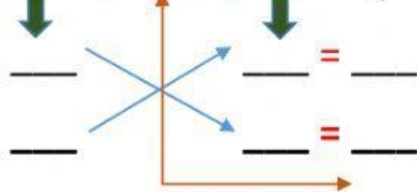
## EVALUACIÓN TRINOMIO DE LA FORMA $x^2+bx+c$

NOMBRE: \_\_\_\_\_

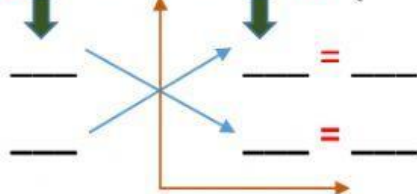
CURSO: \_\_\_\_\_ de Secundaria

**Factorizar los siguientes trinomios:**

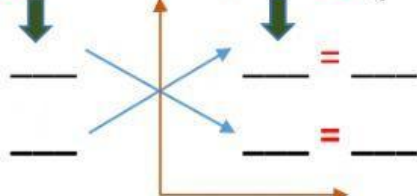
1.  $x^2 + 15x + 56 = ( \quad )( \quad )$



2.  $a^2 - 2a - 35 = ( \quad )( \quad )$



3.  $x^2 - 15x + 54 = ( \quad )( \quad )$



4.  $z^2 + 8z - 180 = ( \quad )( \quad )$

