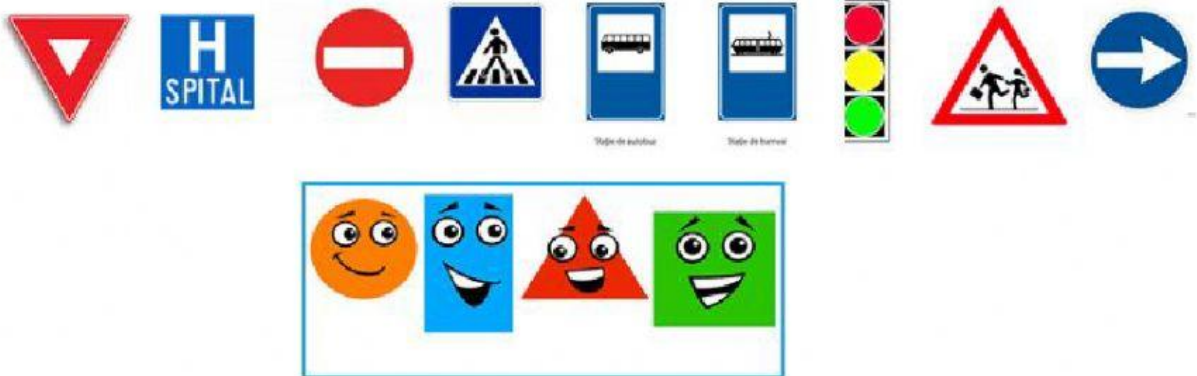


Numele și prenumele _____

Test de evaluare

Elemente de geometrie

1. Scrie sub obiectul ilustrat figura geometrică corespunzătoare formei sale.



2. Faceți corespondența între corpurile geometrice și denumirea fiecăruia, notând cifra corespunzătoare în căsuțele goale de lângă obiecte:



1. sferă

2. con

3. cuboid

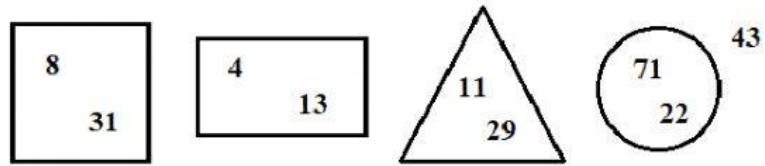
4. cilindru

5. cub

3. Adevărat sau fals (A sau F) ?

- Pătratul are patru laturi de lungimi egale.
- Triunghiul are patru laturi.
- Dreptunghiul este rotund.
- Cercul are trei laturi.
- Un cub are 6 fețe în formă de pătrat.
- Dreptunghiul are 3 vârfuri.

4. Privește cu atenție figurile de mai jos:



a. Află diferența numerelor din interiorul pătratului

.....

b. Află suma numerelor din interiorul dreptunghiului

.....


c. Calculează diferența, apoi suma numerelor din interiorul triunghiului

.....


d. La diferența numerelor din interiorul cercului, adaugă numărul din exteriorul său.

.....

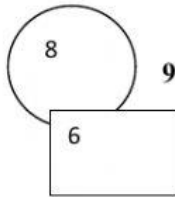
6. Un teren în formă de pătrat are latura de 25 m. Altul în formă de dreptunghi are lățimea de 5 ori mai mică decât latura pătratului, iar lungimea de 3 ori mai mare. Câți metri de gard sunt necesari pentru a împrejmui cele două terenuri?



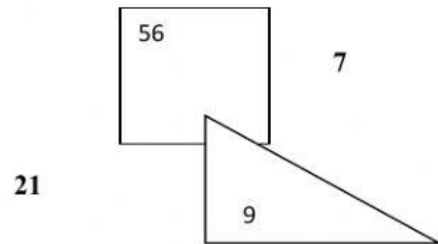
7. La o grădiniță se află într-o ladă cu jucării 134 cuburi, cu 24 mai multe sfere și conuri cât sfere și cuburi la un loc. Câte piese de joc sunt în total?



8. Află :



a) Produsul numerelor din interiorul figurilor geometrice



b) cătul numerelor din exteriorul figurilor geometrice
