



LECCIÓN UNIDAD

1. Observa la imagen y selecciona V (verdadero) o F (falso) según corresponda.



El cuerpo tiene 2 brazos.

☐ V ☐ F

La cara tiene 3 ojos.

☐ V ☐ F

El cuerpo tiene 2 piernas.

☐ V ☐ F



La cara tiene 2 narices.

☐ V ☐ F

La cabeza tiene 4 orejas.

☐ V ☐ F

2. Encierra en la semirrecta numérica de elementos de cada conjunto y completa.

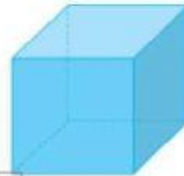

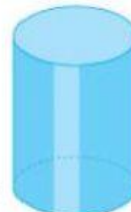


• Hay ____ lápices.

• Hay ____ borradores.



3. Selecciona el cuerpo geométrico que le corresponde a cada imagen.

☐☐☐☐☐☐☐☐☐

4. Selecciona la respuesta correcta.

¿Qué signo se usa en la adición?


☐ el signo -

☐ el signo +


☐ el signo x




5. Cuenta los puntos y relaciona cada ficha con el número.




3




7



5



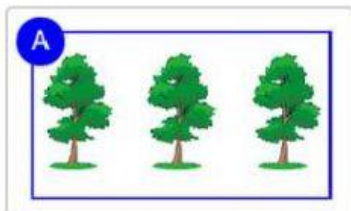
4



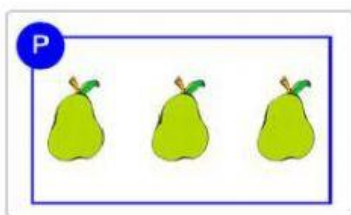
8



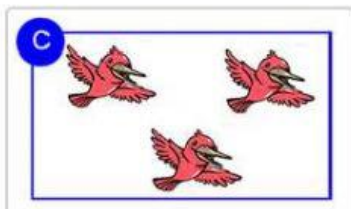
6. Relaciona cada imagen con su descripción.



Conjunto de aves

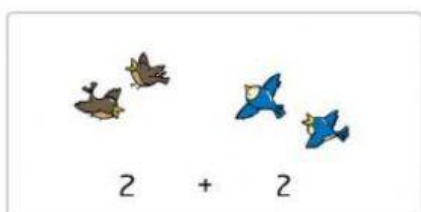


Conjunto de árboles




Conjunto de peras


7. Relaciona cada suma con el total que le corresponde.



5



4



3



CENTRO EDUCATIVO BILINGÜE "MI ECUADOR"

NUESTRA EXPERIENCIA ES SU GARANTÍA

ÁREA MATEMÁTICAS