



PREFEITURA DE JUAZEIRO/BA
SECRETARIA MUNICIPAL DE EDUCAÇÃO E JUVENTUDE
SUPERINTENDÊNCIA DE FORMAÇÃO



ESCOLA:

NOME:

ANO/TURMA:

DATA: __/__/__

4º BLOCO DE ATIVIDADES: CONECTA SAEB – 2º ANO

LÍNGUA PORTUGUESA

DEVERES DA CRIANÇA

CRIANÇA TAMBÉM TEM DEVERES
PRESTE AGORA ATENÇÃO
TEM QUE RESPEITAR O PRÓXIMO
AOS PROFESSORES, PAIS E IRMÃOS



TEM QUE TER RESPONSABILIDADE
FAZER TODA A SUA LIÇÃO
SER BONDOSO, AMÁVEL E PACIENTE
CUIDAR BEM DA HIGIENE
E TAMBÉM DO MEIO AMBIENTE



TEM QUE OBEDECER AS LEIS
E AS REGRAS RESPEITAR
DEVE AJUDAR AS PESSOAS
SEMPRE QUE PRECISAR



OS DEVERES DEVEM SER GARANTIDOS
POR TODOS OS CIDADÃOS
CRIANÇA PRECISA SER CRIANÇA
NÃO PODE HAVER EXPLORAÇÃO.



(DAY VIANA)



Fonte: <https://br.pinterest.com/pin/655203445783956139/>

QUESTÃO 1

- NO TEXTO APRESENTADO, “DEVERES DA CRIANÇA” É ABORDADO QUE CRIANÇA NÃO POSSUI APENAS DIREITOS, MAS TAMBÉM DEVERES. LEIA E IDENTIFIQUE A FRASE QUE REPRESENTA UM DEVER QUE ESTÁ SENDO PRATICADO PELA CRIANÇA, NA IMAGEM A SEGUIR.



- A. ☐ NÃO AJUDAR AS PESSOAS.
- B. ☐ AJUDAR AS PESSOAS.
- C. ☐ BRIGAR COM AS PESSOAS.
- D. ☐ NÃO FALAR COM AS PESSOAS.

QUESTÃO 2

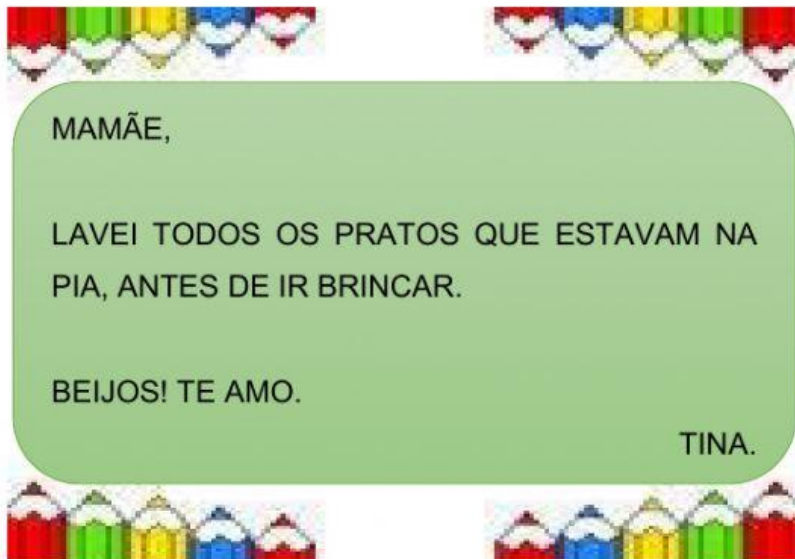
- OS DEVERES DEVEM SER CUMPRIDOS PARA VIVERMOS BEM EM COMUNIDADE. OBSERVE A IMAGEM A SEGUIR E IDENTIFIQUE O DEVER QUE CORRESPONDE AO QUE ESTÁ ACONTECENDO.



- A. ☐ DEVEMOS CUIDAR DO MEIO AMBIENTE.
- B. ☐ SÓ PRECISAMOS CUIDAR DOS BRINQUEDOS.
- C. ☐ DEVEMOS BRINCAR O TEMPO TODO.
- D. ☐ NÃO PRECISAMOS CUIDAR DAS PLANTAS.

QUESTÃO 3

- LEIA O BILHETE COM ATENÇÃO.



- AGORA LOCALIZE A ALTERNATIVA QUE ABORDA O QUE A MENINA FEZ ANTES DE BRINCAR.

- A. () CORREU NA RUA.
- B. () PULOU NA CAMA.
- C. () LAVOU OS PRATOS.
- D. () LAVOU AS ROUPAS.

QUESTÃO 4

- DE ACORDO COM O TRECHO DO TEXTO “DEVERES DA CRIANÇA”, QUEM É QUE DEVEMOS RESPEITAR? IDENTIFIQUE E MARQUE A ALTERNATIVA CORRETA.




- A. () APENAS AO PRÓXIMO.
- B. () APENAS OS PAIS E OS PROFESSORES.
- C. () APENAS OS IRMÃOS E AOS PAIS.
- D. () O PRÓXIMO, PROFESSORES, PAIS E IRMÃOS.

Exemplo:



QUESTÃO 5

- AGORA É COM VOCÊ! USE SUA IMAGINAÇÃO E PRODUZA UM CONVITE. ELE PODE SER DE UMA FESTINHA DE ANIVERSÁRIO, DE NATAL, OU DE OUTRO EVENTO. CONVIDE OS AMIGUINHOS QUE GOSTA PARA ESSE MOMENTO.



- Exemplo:



CARDÁPIO

PICOLÉ	R\$ 2,00	☐ BOLO DE SORVETE	R\$ 10,00
PICOLÉ SKIMO	R\$ 3,00	MILKSHAKE 400ML	R\$ 12,00
SELF SERVICE	R\$ 40,00	PETIT GATEAU	R\$ 15,00
AÇAÍ 380ML	R\$ 12,00	SUNDAE	R\$ 15,00
AÇAÍ 700ML	R\$ 21,00	BANANA SPLIT	R\$ 18,00
ROLETA DE AÇAÍ	R\$ 28,00	ÁGUA NATURAL	R\$ 3,00
TAÇA DA FELICIDADE	R\$ 25,00	ÁGUA C/ GÁS	R\$ 4,00
TAÇA DOS SONHOS	R\$ 25,00	REFRIGERANTE GRANDE	R\$ 5,00
TAÇA DOS DEUSES	R\$ 25,00	REFRIGERANTE PEQUENO	R\$ 3,00

TEMOS O MELHOR SORVETE DE CIDADE.





AGENDE SUA ENCOMENDA

 (19) 99468-0726


 (19) 3327-9209

Fonte: <https://pt-br.facebook.com/pg/soakisorveteria/posts/>

QUESTÃO 6

- AGORA É SUA VEZ! ELABORE O SEU PRÓPRIO CARDÁPIO. ESCREVA O QUE VOCÊ CONSOME EM CADA UMAS DAS REFEIÇÕES DO DIA.

CARDÁPIO



DIREITO À ALIMENTAÇÃO

ESCOLA:

NOME:

ANO/TURMA:

DATA: __/__/__

4º BLOCO DE ATIVIDADES: CONECTA SAEB – 2º ANO

MATEMÁTICA

- LEIA O TRECHO ABAIXO, RETIRADO DO ALMANAQUE DOS DIREITOS DA CRIANÇA E DO ADOLESCENTE DA TURMA DA MÔNICA PARA AS QUESTÕES 1 E 2:



Fonte: <https://www.gov.br/mdh/pt-br/centrais-de-conteudo/crianca-e-adolescente/estatuto-da-crianca-e-adolescente-turma-da-monica-2018.pdf/@download/file/estatuto-da-crianca-e-adolescente-turma-da-monica.pdf>

QUESTÃO 1

- DE ACORDO COM O FRANJINHA, O ESTATUTO DA CRIANÇA E DO ADOLESCENTE É UMA LEI QUE TRAZ UM CONJUNTO DE REGRAS E ESTÁ PREVISTO NA CONSTITUIÇÃO DE 1988, NO ARTIGO **277**. QUAL O VALOR POSICIONAL DO NÚMERO 2 É:
- A. () 2 CENTENAS = 200 UNIDADES;
B. () 20 CENTENAS = 200 UNIDADES;
C. () 200 CENTENAS = 200 UNIDADES;
D. () 200 CENTENAS = 220 UNIDADES.

QUESTÃO 2

- O FRANJINHA, PERSONAGEM DA TURMA DA MÔNICA, AO FALAR DO ESTATUTO DA CRIANÇA E DO ADOLESCENTE, TAMBÉM EXPLICOU QUE ESTE DOCUMENTO NA VERSÃO ATUALIZADA DO ANO DE 2017, POSSUI 219 PÁGINAS.



Fonte: https://www2.senado.leg.br/bdsf/bitstream/handle/id/534718/eca_1ed.pdf

- AJUDE A TURMINHA NESTE DESAFIO LANÇADO PELO FRANJINHA: EM RELAÇÃO À QUANTIDADE DE PÁGINAS (**219**) CONTIDA NESSA VERSÃO DO ESTATUTO DA CRIANÇA E DO ADOLESCENTE, O NÚMERO 1 TEM O VALOR POSICIONAL DE:
- A. () 100 UNIDADES
B. () 100 CENTENAS = 100 UNIDADES
C. () 1 DEZENA = 10 UNIDADES
D. () 1 UNIDADE