


Prueba Sumativa de Matemáticas

Cuerpos geométricos.

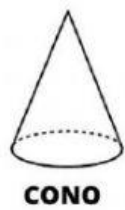

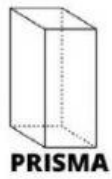

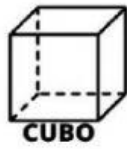
Nombre: \_\_\_\_\_ Grado: 1° A, 1° B

Fecha: \_\_\_\_\_ Valor: 31 pts

1. Escribe que forma tiene cada imagen (esfera, cilindro, cubo, cono, pirámide) 9 pts.



2. Une con una línea los cuerpos geométricos con los objetos que se asemejan( 6 pts.)



3. Escribe cuantas caras, aristas y vertices tiene cada cuerpo geométrico(1 6 pts.)

CUERPO	NOMBRE	Nº DE CARAS	Nº DE VÉRTICES	Nº DE ARISTAS
				
				
				
				