















L'ESCORÇA TERRESTRE I LES ROQUES. LA GEOSFERA

1. Relaciona.

atmosfera	geosfera	hidrosfera	Terra
líquida	sòlida	gasosa	

2. Completa.

El planeta  té **3** capes: l' , que és la capa ; la , que és la capa ; i la , que és la capa .

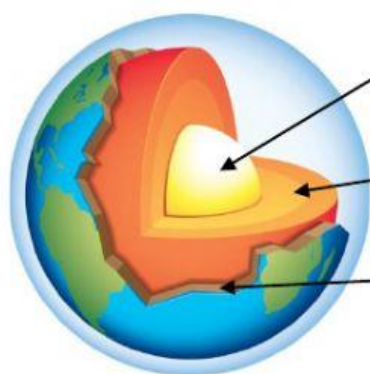
3. Quantes capes té la Terra? Com s'anomenen aquestes capes?

La té capes: l' , la i la .

4. Quin tipus de capa és cadascuna?

L'  és la capa , la  es la capa i la  és la capa .

5. Relaciona.




Geosfera

Nucli

Escorça


roques

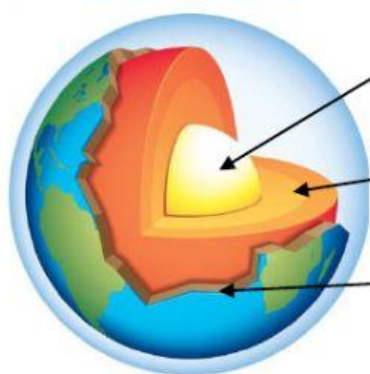
Mantell

: està formada per .




6. Completa.

La  està formada per .

A la  es distingeixen **3** parts:



7. Completa:

NOM	 <input type="text"/>	 <input type="text"/>	 <input type="text"/>
PART	<input type="text"/>	<input type="text"/>	<input type="text"/>
ÉS LA...	<input type="text"/>	<input type="text"/>	<input type="text"/>

Nucli
 Escorça
 Mantell
 intermèdia
 exterior
 centre
 més gruixada
 més estreta

8. Què és la **geosfera**?

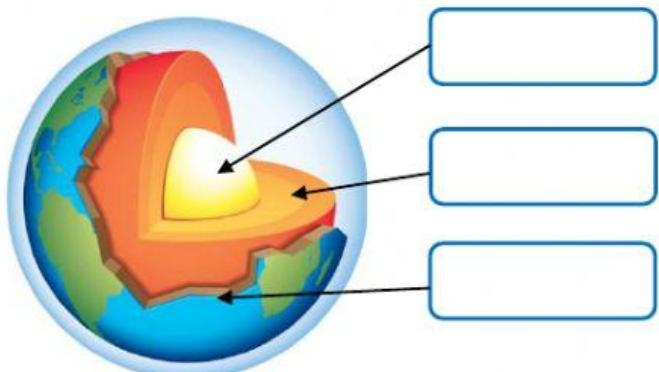
La és la capa més de la Terra.

9. De què **està formada** la **geosfera**?




La està formada per .

10. Quantes **parts** es distingeixen a la **geosfera** i com s'anomenen?

A la es distingeixen parts.



11. En quines **zones** de la Terra es troba cada part i com és d'**ampla**?

	<input type="text"/>	es troba a la zona	<input type="text"/>	i és la més	<input type="text"/>	.
	<input type="text"/>	es troba a la zona	<input type="text"/>	i és la més	<input type="text"/>	.
	<input type="text"/>	es troba a la zona	<input type="text"/>	.		