
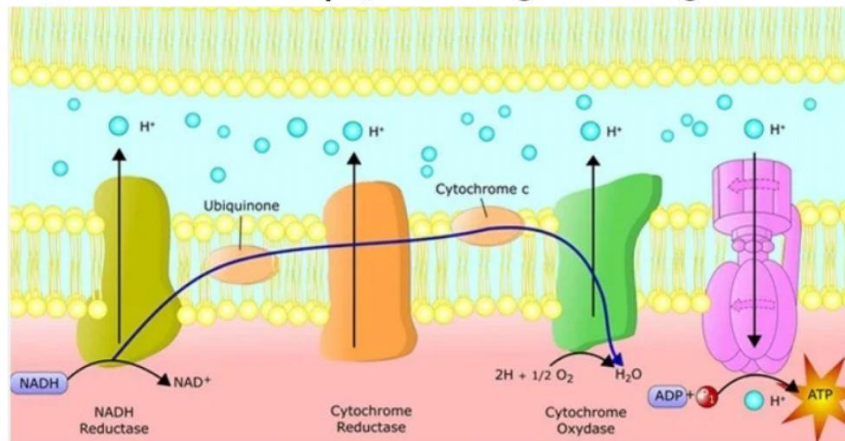


Observe el siguiente video para profundizar:

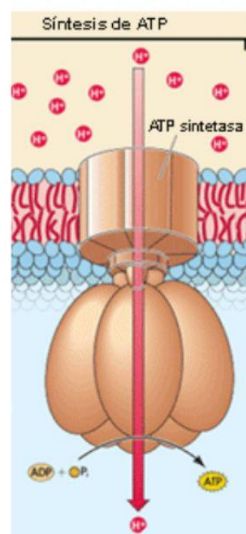


1. Determine los complejos de la siguiente imagen.



FUENTE: <https://acortar.link/Jk7DVy>

2. ¿Cómo se llama el proceso que se muestra en la siguiente imagen en la cadena de transporte de electrones?



FUENTE: <https://acortar.link/zWRaWw>

DATO IMPORTANTE

Se utiliza energía liberada por la oxidación de nutrientes para producir ATP.

