




UNIDAD EDUCATIVA
"SANTA MARIANA DE JESÚS"
PORTOVIEJO – MANABÍ - ECUADOR
CUERPOS DE REVOLUCIÓN

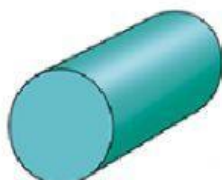

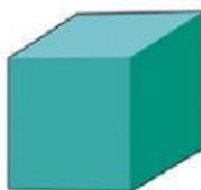


Nombre: _____

Señala los cuerpos que pueden dar una vuelta completa de 360°



Coloca los nombres de los cuerpos geométricos.



pirámide

cubo

cilindro

cono


esfera



UNIDAD EDUCATIVA
"SANTA MARIANA DE JESÚS"
PORTOVIEJO – MANABÍ – ECUADOR



Observa el muñeco y escribe los nombres de los cuerpos que lo conforman.



Partes del muñeco	Cuerpo de revolución
sombrero	<input type="text"/>
tronco	<input type="text"/>
cabeza	<input type="text"/>

Une cada cuerpo geométrico con su modelo para armar.

