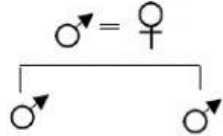
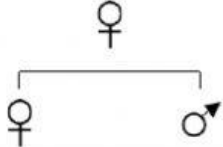
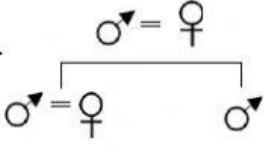


**MODUL 2**

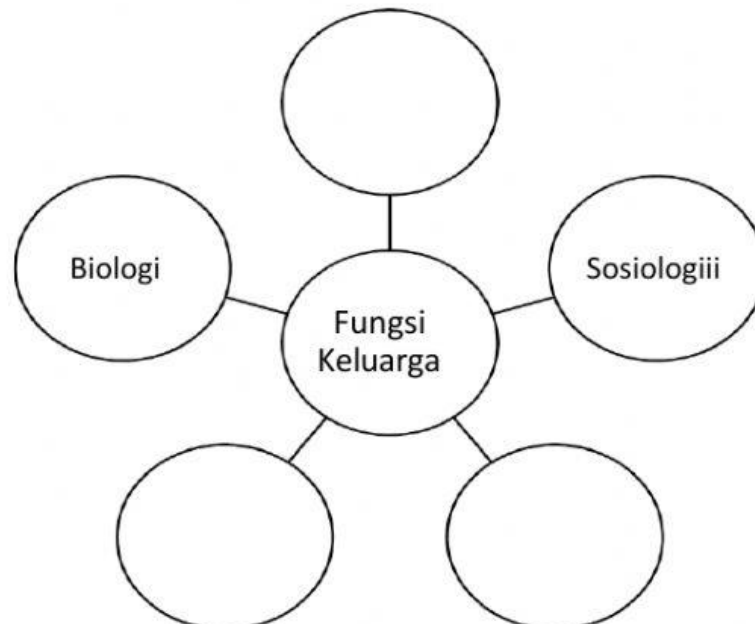
**BAB : 2.0 PENGURUSAN SUMBER MANUSIA DAN TEMPAT KEDIAMAN**

1. Nyatakan nama struktur keluarga pada petak yang disediakan di dalam jadual di bawah.

i		
ii.		
iii.		

[ 3 markah ]

2. Lengkapkan peta buih dengan fungsi keluarga dalam struktur masyarakat.



[ 3 markah ]

3. Maklumat menunjukkan kategori sumber keluarga.

Sumber manusia	Sumber bukan manusia
----------------	----------------------

Nyatakan kategori sumber keluarga itu dengan menulis jawapan dipetak yang disediakan.

JenisSumberKeluarga	Kategori
i. Wang	
ii. Kemahiran	
iii. Tenaga	
iv. Infrastruktur	

[ 4 markah ]

4. Lengkapkan petabuh di bawah dengan faktor yang mempengaruhi pengurusan sumber keluarga.



[ 3 markah ]