

## UNIDAD EDUCATIVA PARTICULAR BILINGÜE ECOMUNDO

Nombre:

Fecha:


Curso:

PARALELO: A - B

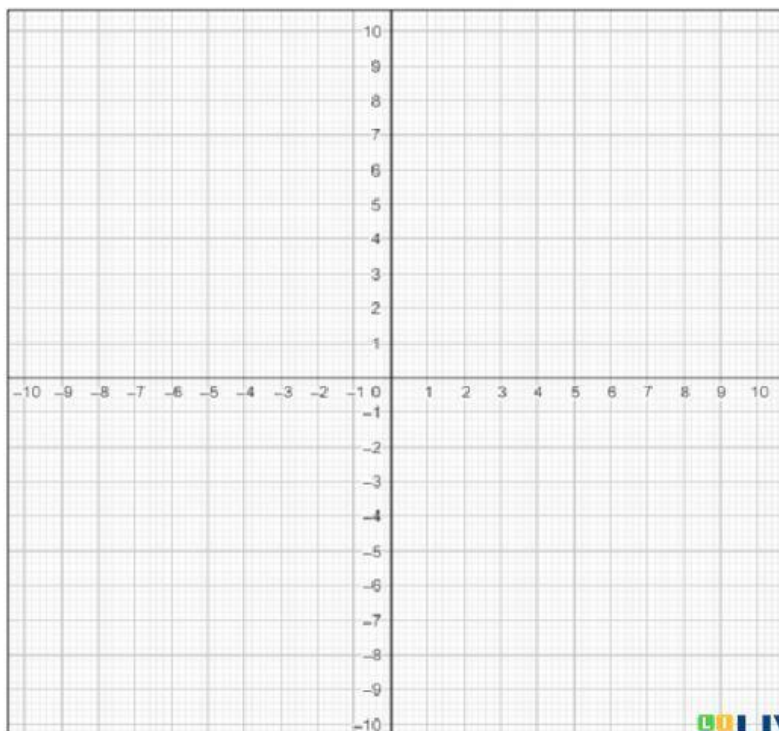
Docente: Ing. Andrés González T. Mgtr.





### U3-ACTIVIDAD FORMATIVA 4: PLANO CARTESIANO

Observe detenidamente el vídeo y luego realiza la actividad



Arrastre el punto de cada coordenada en el Plano Cartesiano:



 $A ( 5 , 6 )$	 $F ( 10 , 6 )$
 $B ( -1 , 9 )$	 $G ( -3 , -5 )$
 $C ( 0 , 2 )$	 $H ( -8 , 2 )$
 $D ( -7 , 0 )$	 $I ( 6 , -3 )$
 $E ( 0 , -4 )$	 $J ( -1 , -1 )$

Represente en el siguiente plano el triángulo de vértice  $P(-1,2)$ ,  $R(-1,-2)$  y  $Q(2,0)$

Arrastra P, R y Q sobre el plano para formar el triángulo indicado.

