

NÚMEROS MIXTOS (FICHA 1)

LEE CON ATENCIÓN ...

NÚMERO MIXTO:

Está formado por un **NÚMERO ENTERO** + **UNA FRACCIÓN**.

Por ejemplo:

- He comido una pizza y un cuarto $\rightarrow 1 + \frac{1}{4}$
- He comprado dos kilos y medio de pescado $\rightarrow 2 + \frac{1}{2}$
- En la jarra caben tres litros y dos tercios $\rightarrow 3 + \frac{2}{3}$

Mira este otro ejemplo...





Puedo decir que me he comido **dos pizzas y un cuarto**, es decir...




$$2 + \frac{1}{4}$$

AHORA TÚ ...






1. Mira el dibujo y completa el **NÚMERO MIXTO**:



→ Uno y _____ cuartos → $1 + \frac{3}{4}$



→ _____ y un sexto → $2 + \frac{1}{6}$



→ Cuatro y un _____ → $4 + \frac{1}{2}$

2. Lee y completa el **NÚMERO MIXTO**:

→ Uno y tres cuartos → $1 + \frac{3}{4}$

→ Dos y un cuartos → $2 + \frac{1}{4}$

→ Cinco y dos tercios → $5 + \frac{2}{3}$

→ Uno y medio → $1 + \frac{1}{2}$

→ Ocho y tres sextos → $8 + \frac{3}{6}$

→ Nueve y dos quintos → $9 + \frac{2}{5}$

→ Tres y dos cuartos → $3 + \frac{2}{4}$

3. Lee y completa el **NÚMERO MIXTO**:

→ $4 + \frac{1}{2}$ → Cuatro y un medio (o cuatro y medio)

→ $2 + \frac{1}{3}$ → _____ y un _____

→ $9 + \frac{3}{4}$ → _____ y _____ cuartos

→ $5 + \frac{1}{8}$ → _____ y _____

→ $2 + \frac{1}{2}$ → _____ y _____