



NÃO FOI NADA FÁCIL PARA A BRUXA ENCONTRAR OS INGREDIENTES PARA SUA RECEITA. AJUDE-A A RESOLVER OS PROBLEMAS ENCONTRADOS.


1. NA MATA A BRUXA ENCONTROU SAPOS VERDES E SAPOS AMARELOS. CONTE OS SAPOS E DEPOIS SOME AS QUANTIDADES. NÃO ESQUEÇA DE REGISTRAR AS QUANTIDADES. VOCÊ VAI DESCOBRIR QUANTOS SAPOS A BRUXA ENCONTROU!



$$\boxed{\phantom{00}} + \boxed{\phantom{00}} = \boxed{\phantom{00}}$$


2. A BRUXA DECIDIU USAR APENAS SAPOS VERDES. NA HORA DE CAPTURÁ-LOS, 5 SAPOS CONSEGUIRAM FUGIR. VAMOS DESCOBRIR QUANTOS SAPOS A BRUXA CAPTUROU.

REGISTRE NO ESPAÇO INDICADO A QUANTIDADE DE SAPOS CAPTURADOS PELA BRUXA.



1. PARA CONSEGUIR O RESTANTE DOS ANIMAIS A BRUXA TEVE QUE IR AO MERCADO DA FLORESTA. AFINAL, OS GATOS SÃO MUITO ESPERTOS E OS RATOS CORREM DEMAIS.


A BRUXA FICOU ASSUSTADA COM OS PREÇOS. DESCUBRA QUANTO ELA GASTOU PARA COMPRAR 1 GATO E 3 RATOS.



10 REAIS



5 REAIS



COMPLETE O QUADRO COM OS NÚMEROS QUE FALTAM E DESCUBRA A IDADE DA BRUXA.



1				5	
			10		
13			16		
	20				24
			28		
31				35	
			40		
	44				

