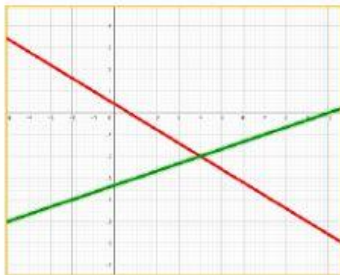


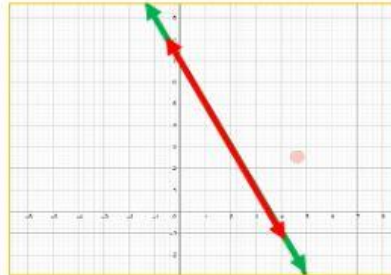
SISTEMA DE ECUACIONES - CLASIFICACIÓN

✂ Nombre y apellidos: _____

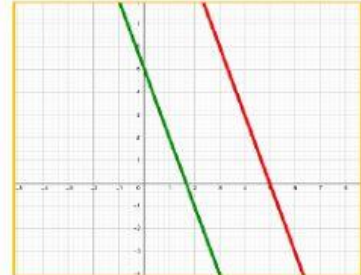
1) Completa los espacios con las características de cada uno de los sistemas de ecuaciones:



Sistema:



Sistema:



Sistema:

Presenta:

Presenta:

Presenta:

2) Coloca V o F, según corresponda:

- Las rectas que forman un sistema incompatible no tienen puntos en común. ☐
- Si un sistema es compatible determinado, las rectas que lo forman siempre son perpendiculares. ☐
- Dos rectas superpuestas forman un sistema compatible indeterminado. ☐
- Dos rectas paralelas forman un sistema compatible determinado. ☐



¡Muchos éxitos!