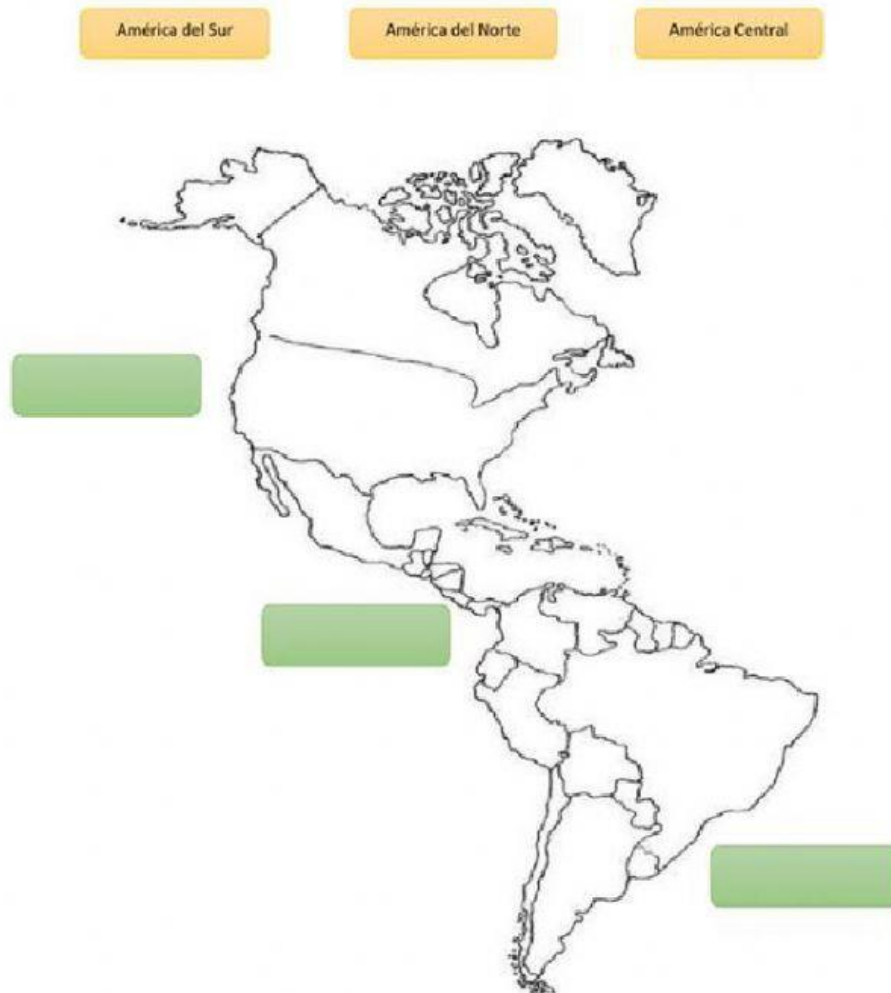




CS.2.2.18. Localizar los distintos territorios en los que se subdivide el continente americano: América del Norte, Centroamérica y América del Sur, a partir de la observación e interpretación de material cartográfico.

2.-

- Ubicar en el mapa el nombre de cada una de las Américas y marque donde está ubicado el Ecuador.



4p

3.- Escribo en el paréntesis V si es verdadero o F si es falso

_América es el continente más pequeño del planeta. ()

_América es el segundo continente más grande del planeta. ()

2p



CS.2.1.10. Localizar y apreciar el patrimonio natural y cultural de la localidad, parroquia, cantón, provincia y país, mediante la identificación de sus características y el reconocimiento de la necesidad social de su cuidado y conservación.

4.- Uno correctamente: los países con la parte de América que pertenece.

México	América del Sur
Ecuador	América Central
Panamá	América del Norte

3p

5.- Señalo el circulo del literal correcto sobre: los límites del Cantón Cuenca.

- a Norte -Loja, Sur- Cañar, Este- Sígsig y Oeste- Guayas.
- b Norte -Cañar, Sur- San Fernando y Girón, Este- Gualaceo-Chordeleg y Oeste- Guayas.
- c Norte -Cañar, Sur- Loja, Este- Morosa Santiago y Oeste- Guayas

1p

CS.2.2.13. Examinar y describir acciones para prevenir desastres tomando en cuenta los accidentes geográficos, las condiciones y ubicación de la vivienda y sus instalaciones.

6.- Seleccionar lo que debemos hacer durante un Sismo.

- Mantener la calma.
- Llorar y gritar.
- Retirarse de ventanas, y objetos que puedan caer.
- Jugar y ver la televisión-
- Ubicarse en zonas seguras.
- Localizar las zonas seguras

4p





CS.2.2.16. Explicar y apreciar la mega diversidad del Ecuador, a través de la identificación de sus límites, regiones naturales, provincias, su flora y fauna más representativa.

7.- Escribe en el paréntesis la V si es verdadero o F si es falso.

2p

El Ecuador es Megadiverso por:

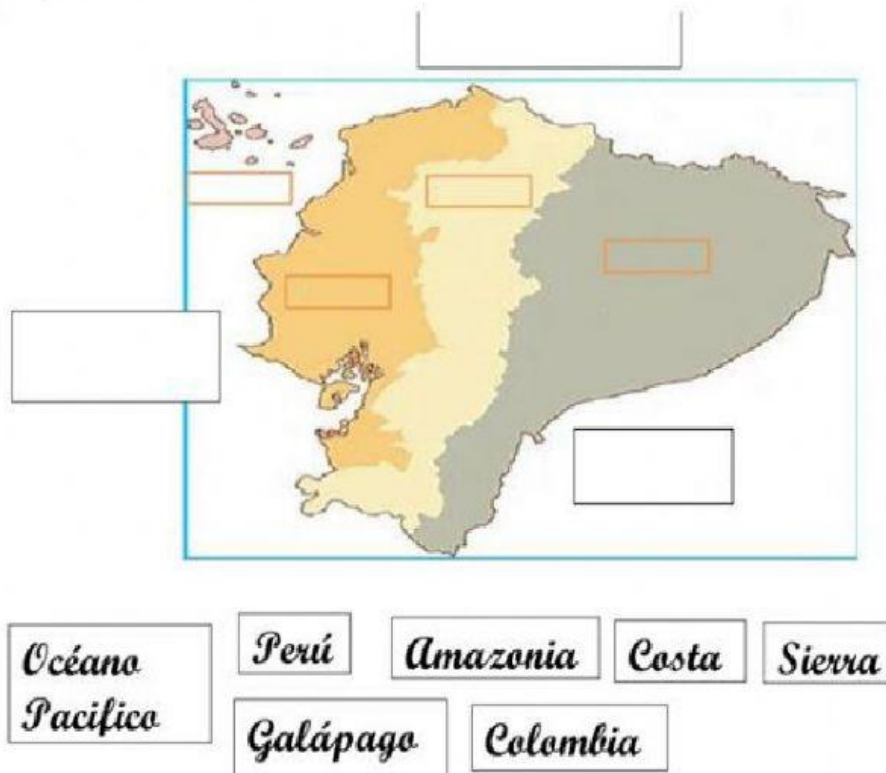
-  Es megadiverso porque solo tiene animales hermosos como monos y conejos ()

-  Es megadiverso porque tiene fauna y flora hermosos, sus regiones naturales y más aún por la Cordillera de los Andes ()

8.-

En el siguiente grafico arrastra y ubica los límites y la región del Ecuador

7p



The map shows the geographical outline of Ecuador with several empty rectangular boxes for labeling. One box is at the top, one on the left side, one in the upper central region, one in the lower central region, one on the right side, and one at the bottom. Below the map is a legend with seven boxes containing the following text: Océano Pacífico, Perú, Amazonia, Costa, Sierra, Galápagos, and Colombia.



	<p>9.-</p> <p>Una con una línea las actividades económicas que correspondan a cada región del Ecuador.</p>     <div style="display: flex; justify-content: space-around; margin-top: 20px;"> <div data-bbox="1023 506 1289 566" style="border: 1px solid black; padding: 5px;">Región Litoral o Costa</div> <div data-bbox="1027 696 1297 752" style="border: 1px solid black; padding: 5px;">Región Sierra o Interandina</div> <div data-bbox="1027 853 1318 909" style="border: 1px solid black; padding: 5px;">Región Amazónica u Oriente</div> <div data-bbox="1034 1025 1302 1088" style="border: 1px solid black; padding: 5px;">Región Insular o Galápagos</div> </div>	4p
	TOTAL, DE DIFICULTADES	35
	EQUIVALENCIA	/10

ELABORADO	VALIDADO	VISTO BUENO
DOCENTES: Lcdo. José Andrade M. Lcda. Lourdes Méndez N. Lcda. Mónica Peralta	COORDINADORA DE ÁREA: Mgs. Nancy Placencia	SUBINSPECTORA: Lcda. Carmita Báez
Firma:	Firma:	Firma:
Fecha:	Fecha:	Fecha: