


Họ và tên: .....

Lớp: .....

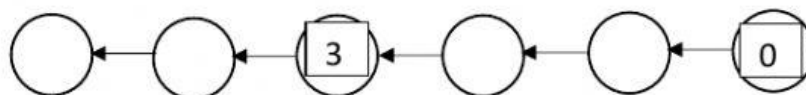
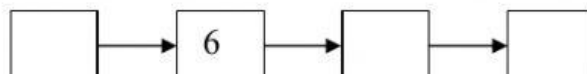
# Phiếu bài tập cuối tuần 6

## Môn: Toán





### Bài 1: Điền số:



### Bài 2: Điền số :



### Bài 3: Nối theo mẫu:



### Bài 4: Điền số:

$4 > \square > 2$

$6 < \square < 8$

$3 < \square < 5$

$7 > \square > 5$

$8 = \square$

$5 = \square$

### Bài 5: Điền > < = :

$5 \dots 7$

$4 \dots 7$

$5 \dots 4 \dots 3$

$6 \dots 9$

$8 \dots 4$

$7 \dots 8 \dots 9$

$3 \dots 3$

$2 \dots 0$

$5 \dots 5 \dots 7$

**Bài 6: Điền th hoặc tr**



Nhà .....ê



.....ợ nề



quả .....i

**Bài 7: Điền vần ua, ưa cho phù hợp**



Cà ch.....



c ..... sỏ



m.... ba lê

**Bài 8: Nối**

Bà chia quà

trà.

Bố pha

cho bé và chị

Bé

mở cửa sỏ.