

**INSTITUTO DE ESTUDIOS AVANZADOS DE OCCIDENTE
RECUPERACIÓN DE CIENCIAS NATURALES Y TECNOLOGÍA
SEXTO PRIMARIA SECCIÓN "A"**



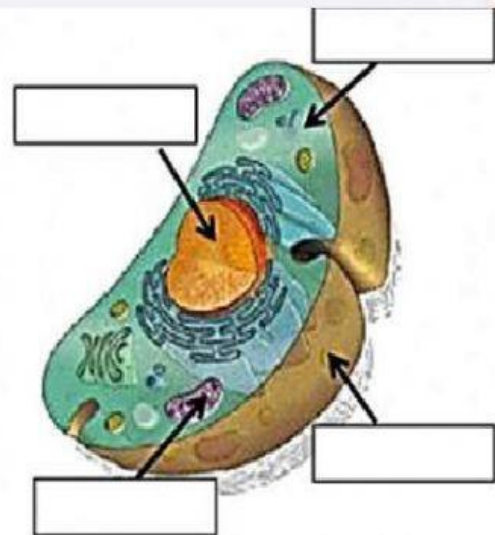
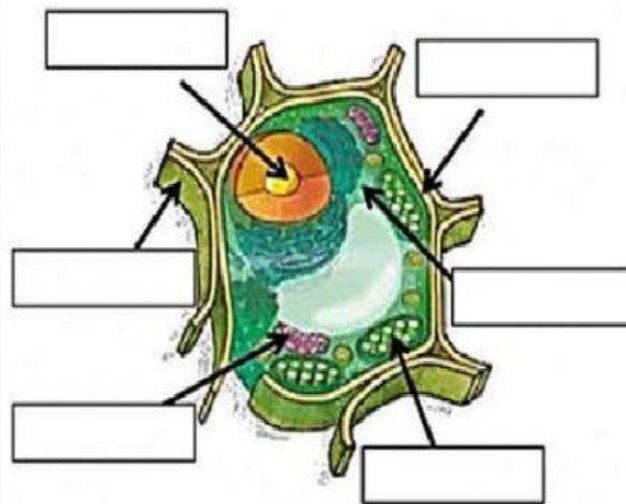
Profa. Sheny Rojas.

NOMBRE:

FECHA:

INSTRUCCIONES Realice lo que se le indica en cada inciso.

- 1. Identifique cada una de las células y luego localice arrastrando cada una de sus partes a donde corresponde.**



Pared

Membrana

Membrana

Orgánulos

Citoplasma

Núcleo

Citoplasma

Cloroplastos

Orgánulos

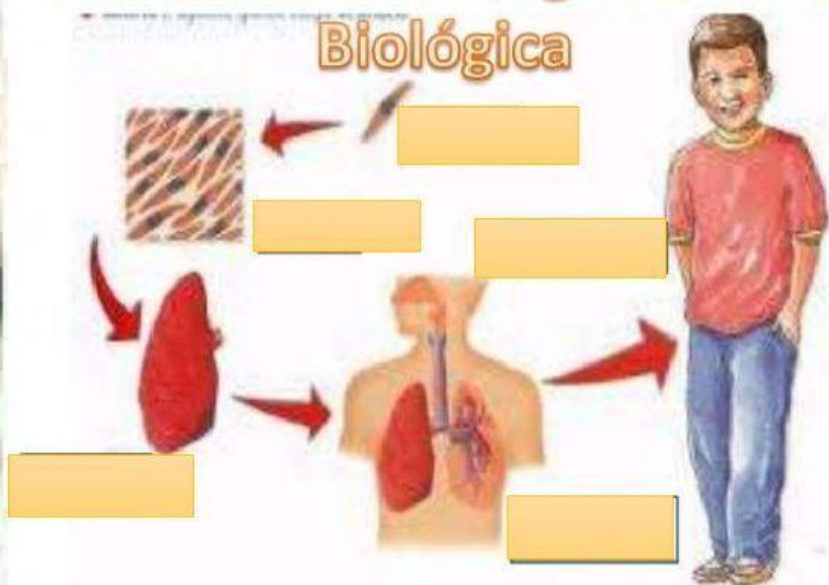
Núcleo

2. Escriba el nombre del concepto al que corresponde cada definición.

- a) Es la unidad básica que constituye a los seres vivos.
- b) A los seres vivos constituidos por una sola célula se le llama.
- c) Parte de la célula que contiene el ADN.
- d) Por la presencia de su núcleo la célula puede ser.
- e) A los seres vivos constituidos por más de una célula se les llama.

3. Ordene los Niveles de Organización Celular en la imagen.

Los Niveles de Organización Biológica



TEJIDO

ORGANISMO

CÉLULA

SISTEMA

ÓRGANO