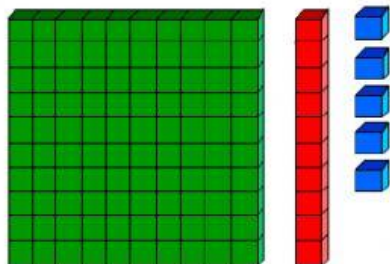


APRENDEMOS A REPRESENTAR NÚMEROS



Trabaja con mama usando tus bloques base diez.

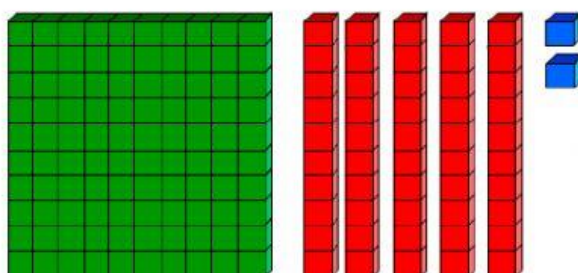
Veamos los siguiente ejemplos, solo cuenta cuántos hay



C	D	U
1	1	5

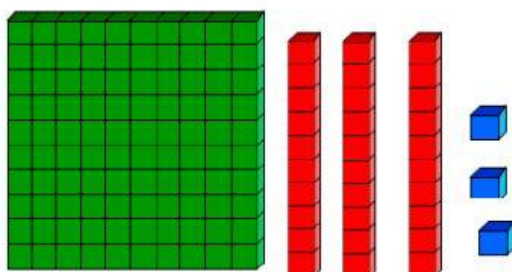
Vamos, ahora tu puedes hacerlo

1)



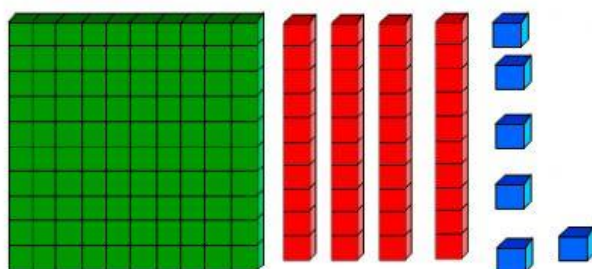
C	D	U

2)



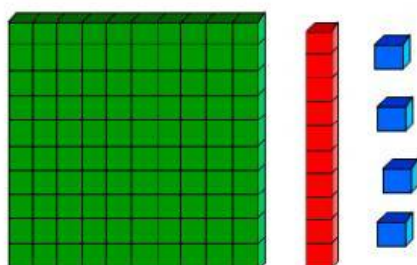
C	D	U

3)



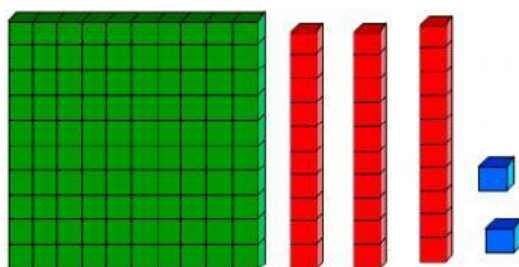
C	D	U

4)



C	D	U

5)



C	D	U

Virginia Flores Vargas

