

LEMBAR KERJA PESERTA DIDIK (LKPD)

KELAS 3 SDN KAPUK 03 PAGI KAPUK CENGKARENG JAKARTA BARAT

TEMA 3 SUB TEMA 4 "KEAJAIBAN PERUBAHAN WUJUD DI SEKITAR KITA"

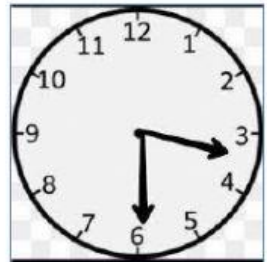
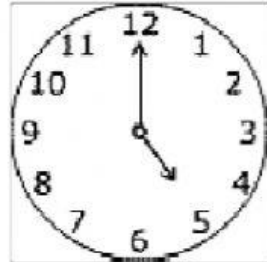
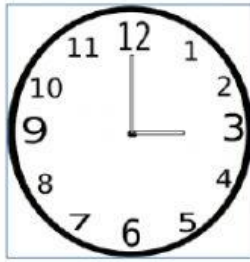
NAMA :

HARI/TGL :

Pilih jawaban yang paling tepat!

1. Untuk mengisi dua petak air laut petani membutuhkan waktu 2 jam 15 menit.
Berapa lama waktu yang dibutuhkan petani garam tersebut dalam satuan menit?
2. Untuk memanen 3 petak garam petani membutuhkna waktu 150 menit. Berapa waktu yang di buthkan petani dalam satuan jam?
3. 2 jam 35 menit = Menit + menit
= Menit
4. 5 jam 23 menit = menit + menit
= menit
5. 85 menit = jam menit
6. 240 menit = jam menit
7. 1 jam 45 menit + 2 jam 55 menit = Jam 40 menit
8. 4 jam 30 menit + 3 jam 45 menit = 8 jam menit
9. 5 jam 15 menit – 2 jam 25 menit = jam 50 menit
10. 2 jam 20 menit – 1 jam 50 menit = 0 jam menit

11. Pasangkan dengan waktu yang sesuai!



05.00

03.30

03.00

08.00

12. Pindahkan sesuai dengan waktu yang ditunjukkan pada jam dinding tersebut!

01.53

09.05

05.30

09.15

