



# FRACCIONES IMPROPIAS




COMPLETEMOS  
JUNTOS LA FRACCIÓN




$\frac{\quad}{6}$



$\frac{\quad}{7}$



$\frac{\quad}{\quad}$



$\frac{\quad}{\quad}$



¡Hola! Yo soy la tortuga de Nicolás. Yo estaba jugando con unas mariposas, pero sin querer desorganicé las fracciones

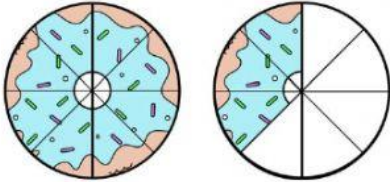
**AYÚDAME POR FAVOR A COLOCAR CADA NOMBRE EN SU LUGAR CORRESPONDIENTE**



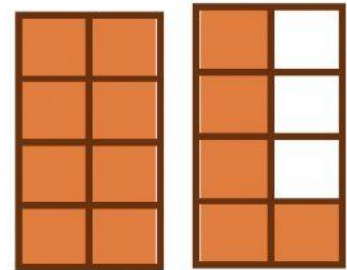
Siete medios



Tres séptimos

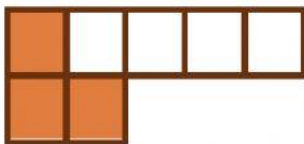


Un medio

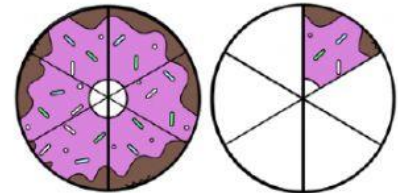


Trece octavos




Siete sextos



Once octavos



¡HOLA! MI NOMBRE ES SARA.  
PODRÍAS AYUDARME A CLASIFICAR LAS  
FRACCIONES EN **PROPIAS** E  
**IMPROPIAS** SEGÚN CORRESPONDA.



PROPIAS



IMPROPIAS



Gracias por  
ayudarnos y  
aprender con  
nosotros