



Profesora Jocelyn Flores O.


UNIDAD 1: "TRABAJAR CON MAPAS Y CONOCER NUESTRO PAÍS"

Actividad N° 9: Puntos cardinales.

Asignatura: Historia, geografía y ciencias sociales Curso: 2° A-B

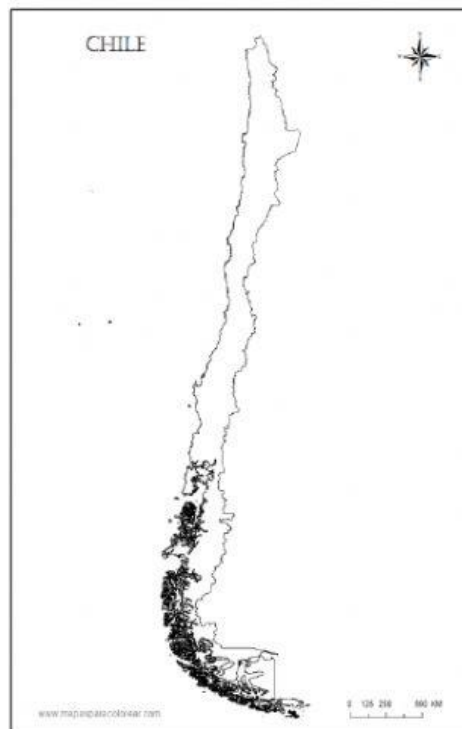
Nombre del Estudiante: _____ Fecha de material: _____

Objetivos de aprendizaje: Leer y dibujar planos simples de su entorno, utilizando puntos de referencia, categorías de posición relativa y simbología pictórica. (OA 6)



Daniel y su hermana Alejandra quieren viajar en las vacaciones de verano a visitar a su abuelita Berta que vive en el SUR DE CHILE. Ellos saben que viven en Chile, pero no saben a qué se refiere su abuelita con "EL SUR DE CHILE"

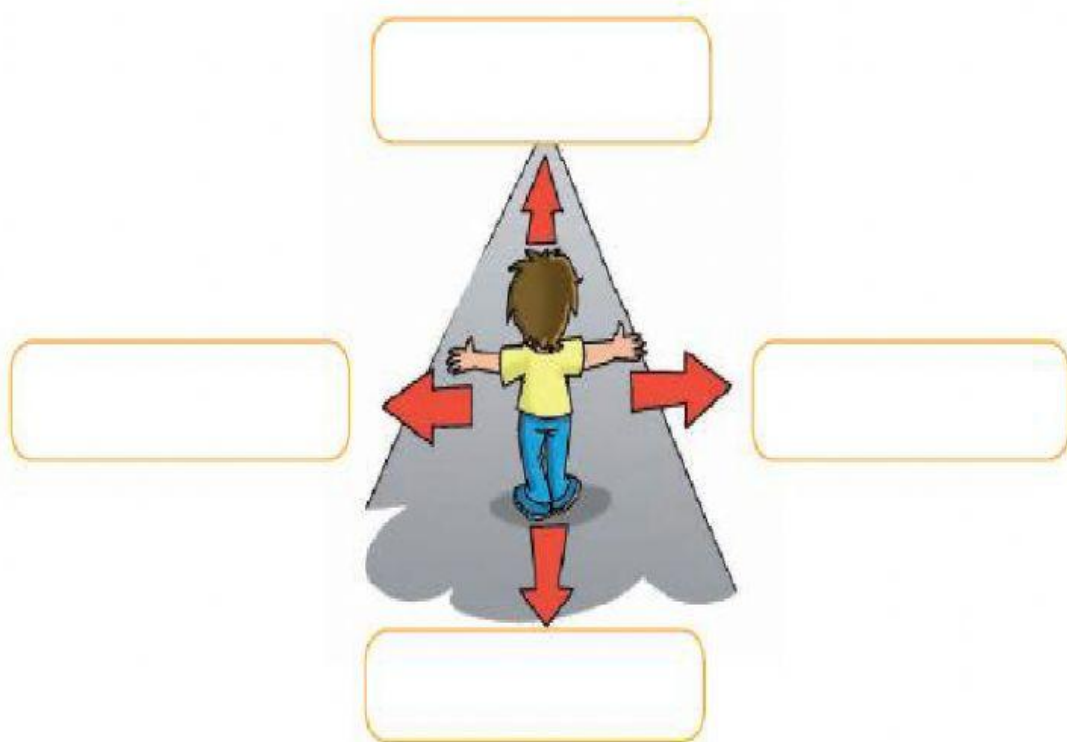
Su mamá les prestó un atlas y buscaron el mapa de Chile. Aún así siguen perdidos sin saber donde está el SUR DE CHILE.





- Para ubicarnos de forma más exacta, tanto en planos como en nuestro entorno, utilizamos los **PUNTOS CARDINALES**.
Los **PUNTOS CARDINALES** son direcciones relacionadas con la posición en que vemos el sol durante el día.
Los puntos cardinales son cuatro: **NORTE SUR, ESTE Y OESTE**.

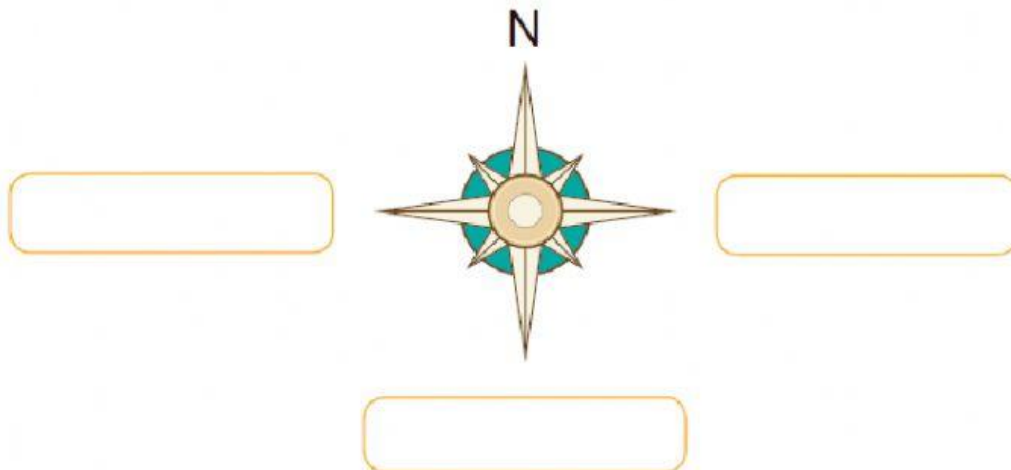
- Para encontrar los PUNTOS CARDINALES te pido que salgas al patio de tu casa y sigas los siguientes pasos:**
 - Busquen la dirección por la que sale el sol y pongan su brazo derecho estirado hacia esa dirección, que será el **ESTE**.
 - Estiren su otro brazo en la dirección contraria, que será el **OESTE**.
 - Miren hacia el frente que será la dirección **NORTE**.
 - Finalmente, hacia atrás estará la dirección **SUR**.
- Observa la imagen y escribe el nombre de los PUNTOS CARDINALES en el espacio asignado:**



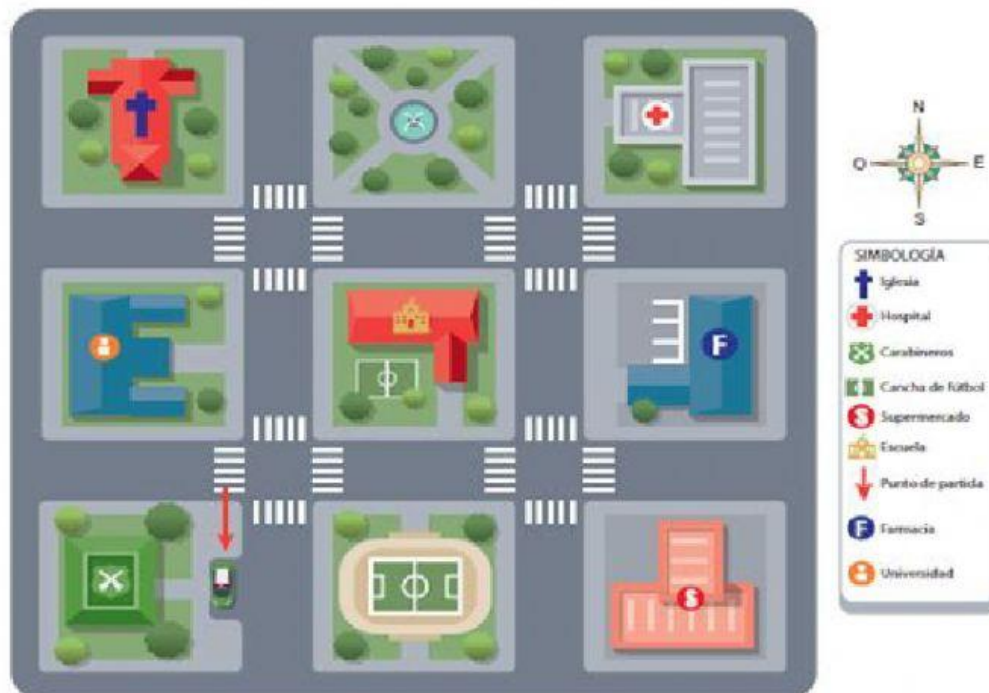


- Los **PUNTOS CARDINALES** se representan con un símbolo llamado **ROSA DE LOS VIENTOS**.
La **ROSA DE LOS VIENTOS** señala hacia donde está orientado el plano o mapa.

III. Completa la ROSA DE LOS VIENTOS, escribiendo los puntos cardinales en los recuadros:



IV. Observa el siguiente plano y contesta usando los puntos cardinales:





- a) La iglesia está al _____ de la plaza.
- b) El hospital está al _____ de la plaza.
- c) La cancha está al _____ del colegio.
- d) El supermercado está al _____ de la cancha.
- e) Al OESTE del supermercado está _____
- f) Al NORTE de la escuela está _____

- Ahora responde la siguiente autoevaluación, marcando con una X la afirmación que más te represente:

INDICADOR	EXCELENTE	BIEN	REGULAR
Puedo reconocer los PUNTOS CARDINALES.			
Puedo ubicar los puntos cardinales en LA ROSA DE LOS VIENTOS			
Entiendo la importancia de los PUNTOS CARDINALES en la vida Diaria.			