


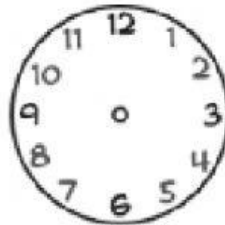



Nombre: _____ Fecha: _____


Escribe o dibuja la hora correcta en cada uno de los relojes.



Las dos menos
cuarto



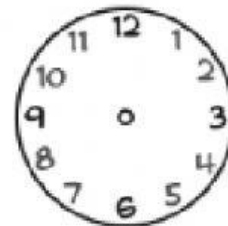
Las once y
diez



Las seis y
cuarto



Las nueve y
veinticinco



Las cuatro y
cinco



2. Escribe en cada espacio la hora correspondiente a cada imagen



4:40



6:20



11:25



12:50



10:10



3:05



6:15



7:00



8:30