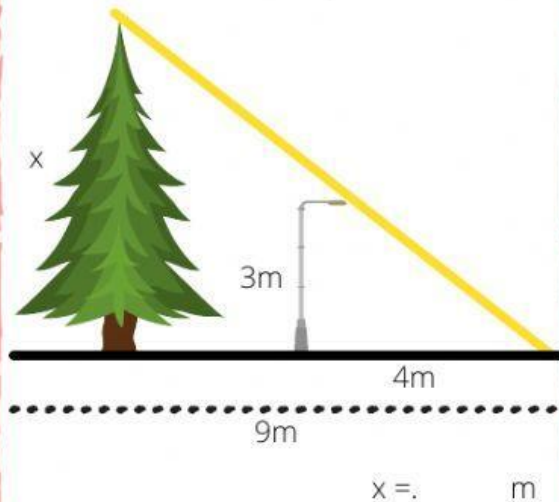


Nombre: _____

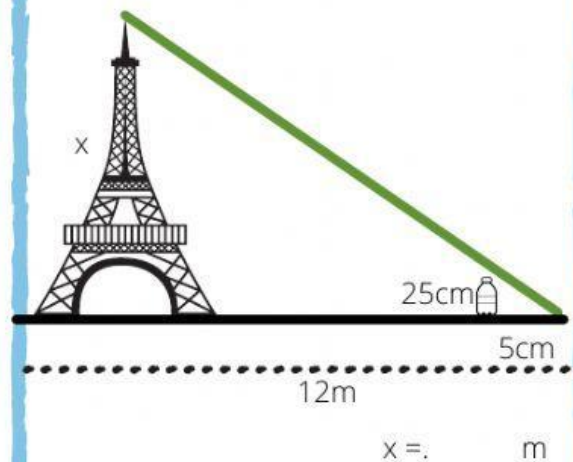
TEOREMA DE TALES

APLICACIÓN

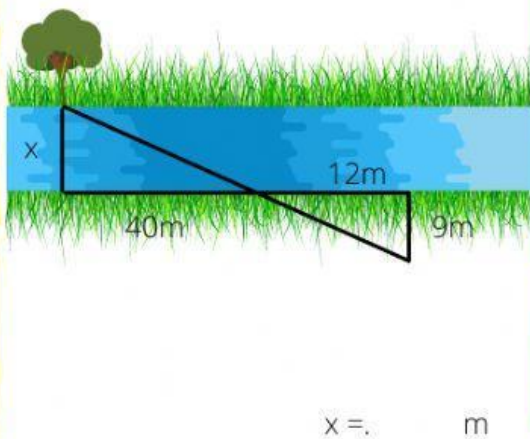
1. Calcula la altura del pino.



2. ¿Cuál es la altura de la torre?



3. Calcular el ancho del río de acuerdo a los datos adjuntos del gráfico



4. Una señal de tránsito de 2 metros de altura proyecta una sombra de 10 metros, al mismo tiempo una pared de un edificio proyecta una sombra de 80 metros. Calcular la altura de la pared.

