

SOAL LATIHAN AKM NUMERASI 3

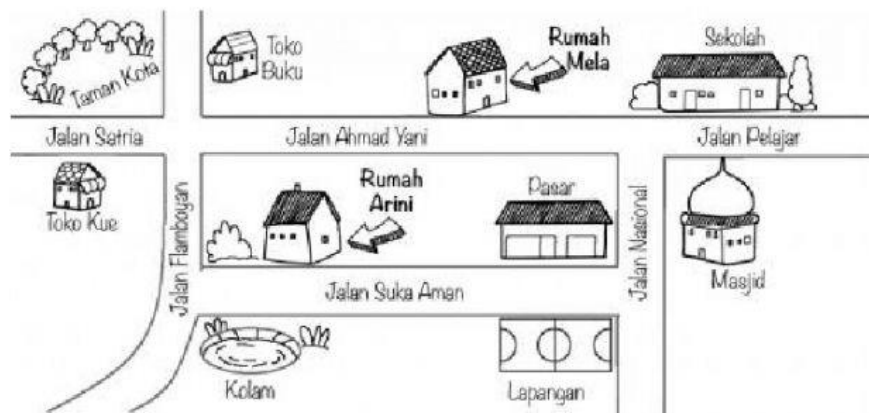
1. Perhatikan penjumlahan 5 digit berikut!

$$\begin{array}{r} 3 \ 6 \ 9 \ 4 \ 2 \\ 1 \ 3 \ 3 \ 5 \ A \\ \hline \end{array} +$$

Jika kamu mengganti huruf A dengan angka 9, apakah hasil penjumlahan tersebut merupakan bilangan 6 angka?

- A. Ya
B. Tidak

2. Mela mempunyai teman baru di kelasnya. Namanya Arini. Mela ingin mengajak Arini bermain sepeda di taman kota. Sayangnya Afika belum tahu letak taman kota. Mela membuat sebuah denah untuk Arini.




Klik pada satu pilihan jawaban!

Sekolah terletak di....

- A. Jalan Pelajar
B. Jalan Nasional
C. Jalan Ahmad Yani

3. Perhatikan koleksi stiker milik Angga berikut ini!



Banyaknya stiker berbentuk lingkaran yang dimiliki Angga adalah....

<input type="text"/>	
<hr/>	Bagian
<input type="text"/>	

4. Perhatikan gambar berikut!



Toko Sembako dikunjungi pemasok telur setiap 8 hari



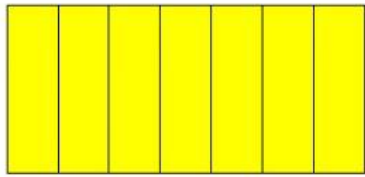
Pemasok mie setiap 15 hari

Pemasok sabun setiap 30 hari

Hari ini telur dan pemasok mie datang bersamaan ke toko sembako. Berapa hari lagi kedua

pemasok akan datang bersama lagi? hari

5. Adi mendapatkan kue $2\frac{3}{7}$ bagian.



Klik pada satu pilihan jawaban!

Berapa banyak bagian kotak putih yang harus Adi warnai kuning sesuai bagiannya?

- A. 6
- B. 7
- C. 9
- D. 13