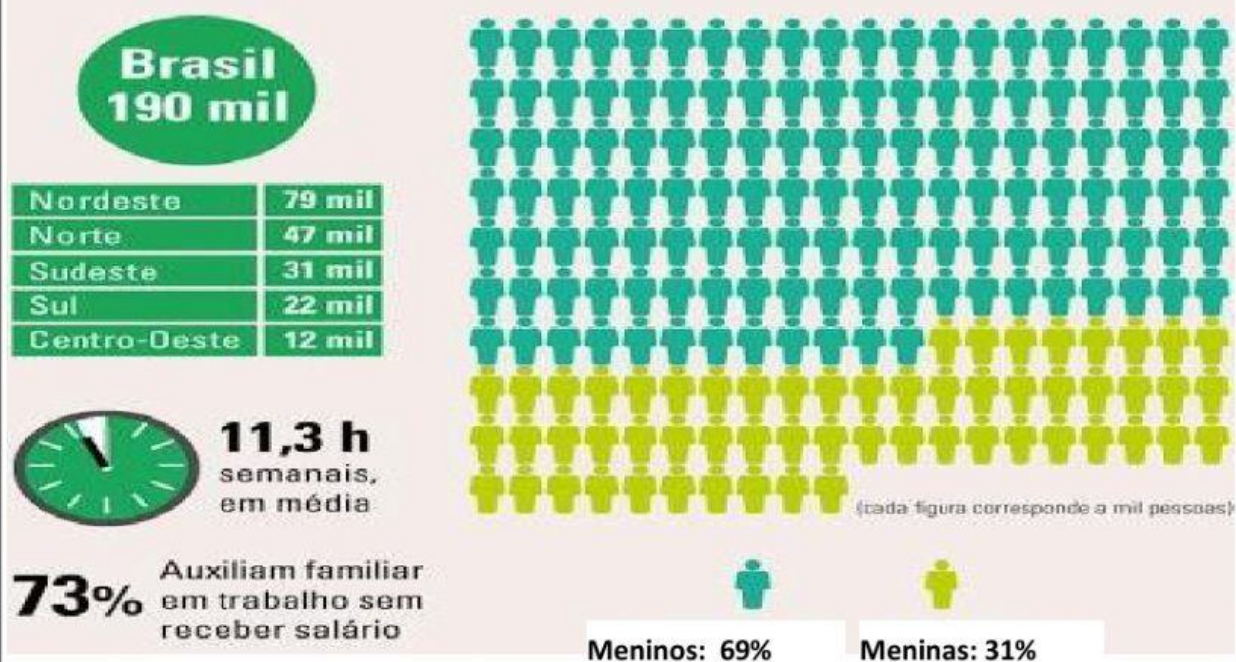


Aluno: _____

Matemática

1 – Ainda falando sobre o trabalho infantil no Brasil e no mundo, no Brasil o trabalho infantil é um dos mais graves problemas do País. Observe o infográfico abaixo e responda as questões:

Trabalho infantil (de 5 a 13 anos) - por Região e Sexo



a) Qual região apresenta maior número de casos de Trabalho Infantil? Quanto?

b) Qual região apresentou menor número de casos de Trabalho Infantil? Quanto?

c) Observando o infográfico, no Brasil o maior número de crianças e adolescentes que estão nessa situação de exploração do Trabalho Infantil são do sexo feminino ou masculino?

d) Segundo o infográfico qual é a porcentagem de meninos que são explorados pelo trabalho?

e) Qual é a porcentagem de crianças e adolescentes que auxiliam suas famílias sem receber salário?

Agora vamos calcular notícias boas. Interpretando tabelas, gráficos e resolvendo pequenas situações problemas que envolve o tema Semana da Criança.

2 – Analise a tabela com os anos em que foram inventados alguns brinquedos. E em resposta as questões abaixo.

BRINQUEDOS	ANO
Patins	1863
Ioiô	1929
Lego	1932
Skate	1975
Bambolê	1958
Fliperama	1947
Barbie	1958

- a) Dos brinquedos da tabela, qual foi inventado há mais tempo? _____
- b) Dos brinquedos da tabela, qual foi inventado há menos tempo? _____
- c) O brinquedo lego foi inventado antes ou depois do ioiô? _____
- d) E o bambolê foi inventado antes ou depois do fliperama? _____
- e) Quais brinquedos da tabela foram criados no mesmo ao? _____
- f) Quantos anos depois do lego se criou o fliperama? _____
- g) Qual ou quais dos brinquedos da tabela você já possuiu? _____

h) Escreva os números da tabela em ordem crescente (menor para o maior)

i) Agora escreva estes números por extenso.

3 – Se o Estatuto da Criança e do Adolescente (ECA) entrou em vigor no dia 13 de julho de 1990. Quantos anos completou o ECA este ano?


() 30 anos


() 27 anos

() 29 anos

4 – A Loja de Brinquedos Legais organizou a venda de seus produtos em um gráfico.

Vendas de brinquedos no primeiro semestre de 2016



Atenção! Cada grupo  corresponde a 250 brinquedos. Não se esqueça
1 bimestre são 2 meses e 1 semestre são 6 meses. Sabendo disso calcule:

a) Quantos brinquedos foram vendidos em:

janeiro – _____

maio – _____

fevereiro – _____

junho – _____

março – _____

julho – _____

abril – _____

b) Em que mês houve maior venda de brinquedos? _____

c) Em que mês houve menor venda de brinquedos? _____

d) Quantos brinquedos foram vendidos no primeiro bimestre do ano? _____

e) Quantos brinquedos foram vendidos em Maio a mais que em Março? _____

f) Quantos brinquedos foram vendidos no 4º e 5º mês do ano? _____

g) Quantos brinquedos foram vendidos em Abril a mais que em Janeiro? _____

Um Bom Trabalho!!!
Professora: Guilhermina