


FRACCIONES DECIMALES

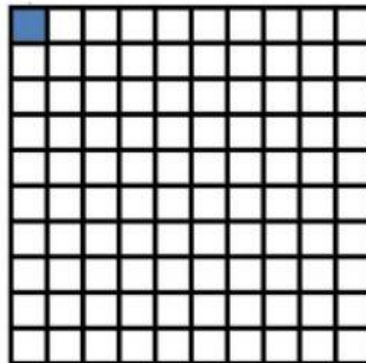


Las fracciones decimales son las fracciones en las que el denominador es la unidad seguida de ceros (10, 100, 1.000....).



En este dibujo una unidad se ha dividido en 10 partes iguales, y se ha coloreado una, por la tanto la fracción que la representa es

$$\frac{1}{10} \text{ un décimo}$$



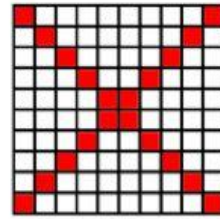
En este dibujo una unidad se ha dividido en 100 partes iguales, y se ha coloreado una, por la tanto la fracción que la representa es:

$$\frac{1}{100} \text{ un centésimo}$$


Observa y une.



veinticinco centésimos




cuatro décimos



siete centésimos


veinte centésimos



doce centésimos

tres décimos

cuarenta y cinco centésimos



sesenta y seis centésimos

