









**FITXA 1: €**

**1. UNEIX AMB FLETXES → LES SEGÜENTS EQUIVALÈNCIES:**



2. ANEM A UN RESTAURANT , ASSENYALA NOMÉS LES MONEDES I BILLETS QUE NECESSITIS.

RECORDA: 1€ = 100 CÈNTIMS

MENJAR	MONEDES I BILLETS QUE NECESSITEM
 <p>4€</p>	
 <p>2€</p>	
 <p>6.50 €</p>	
 <p>2€</p>	

- ELS "NACHOS" (4€) VALEN EL DOBLE DEL GELAT (2€)? \* SÍ \* NO
- EL PREU PER DINAR UNA PERSONA, SERIA: \* 42€ \* 14.5€
- SI NOMÉS TENGUSSIS 10€ QUE VOLDRIES MENJAR?

3. EN PERE HA TRET 8 € DE LA SEVA VIDRIOLA. HA TRET UN BILLET I MONEDES DE 1€ I 2€. QUANTES MONEDES I BILLETS HA TRET?

DIBUIXA LA RESPOSTA, CADA MONEDA I BILLET AMB EL SEU VALOR.

4. NA CARME VOL COMPRAR UN CROISSANT. EL CROISSANT VAL 2'10 €.

NA CARME PORTA AQUESTES MONEDES A LA BUTXACA.



TENDRÀ SUFICIENTS DOBLERS PER COMPRAR EL CROISSANT?



\* SÍ

\* NO

**FITXA 2: € i CÈNTIMS**

5. QUÈ VAL EL NOSTRE BERENAR? INDICA ON VA CADA PREU: **30 C. 62C. 1'26€**

OBJECTE	MONEDES I BILLETS QUE NECESSITEM	PREU?
		
		
		

6. TRIA LES MOENTES QUE NECESSITAM PER FORMAR PAQUETS DE **1€**

**RECORDA: 1€ = 100 CÈNTIMS**

