



TOÁN


GẤP MỘT SỐ LÊN

NHIỀU LẦN



Tên: .....

Lớp: .....



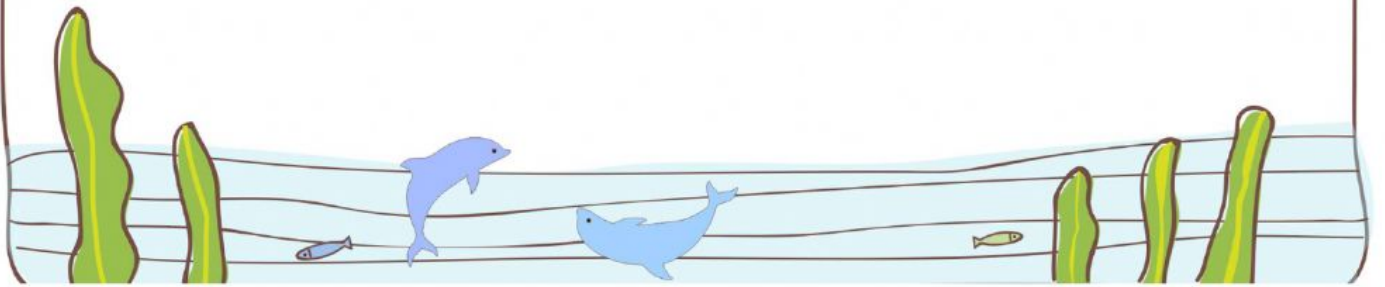
## Bài 1

5  $\xrightarrow{\text{gấp 4 lần}}$

7  $\xrightarrow{\text{gấp 9 lần}}$

6  $\xrightarrow{\text{gấp 8 lần}}$

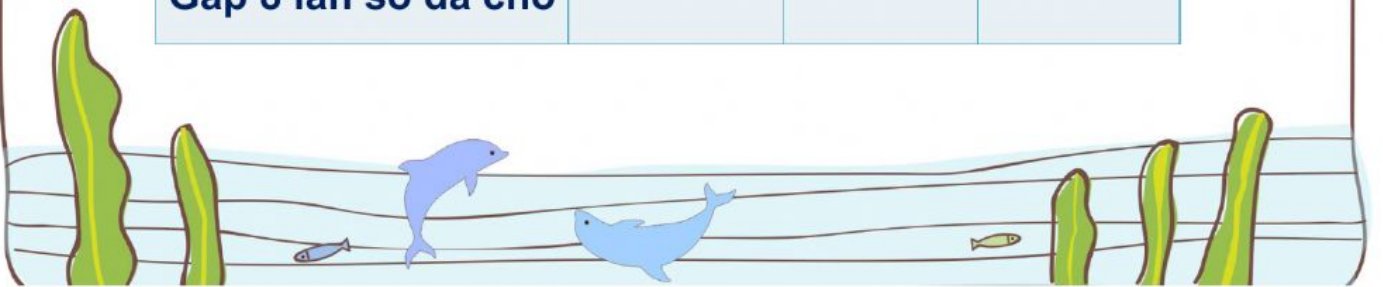
4  $\xrightarrow{\text{gấp 7 lần}}$



## Bài 2

Viết số thích hợp vào ô trống:

Số đã cho	2	7	5
Nhiều hơn số đã cho 8 đơn vị			
Gấp 8 lần số đã cho			



### Bài 3

Năm nay Lan 7 tuổi, tuổi mẹ gấp 5 lần tuổi Lan. Hỏi năm nay mẹ Lan bao nhiêu tuổi?

Bài giải:

.....

..... = ..... (.....)

Đáp số: .....

