

EVALUACIÓN DE MATEMÁTICA

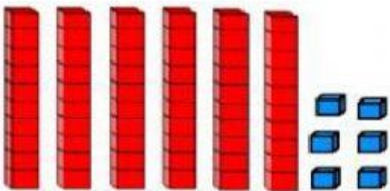
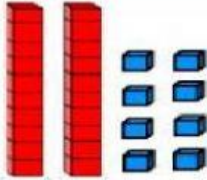

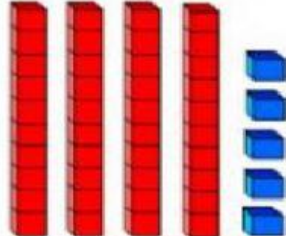
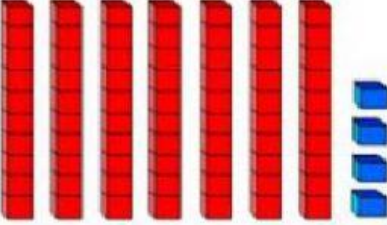
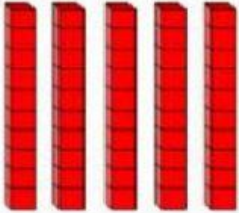
DOCENTES	Verónica Oróstica – Raquel Godoy	UNIDAD	N° 3
EVALUACIÓN	N° 1	NIVEL	1° B - C
OBJETIVOS APRENDIZAJE	DE OA9: Demostrar que comprenden la adición y la sustracción de números del 0 al 100. OA8: Determinar las unidades y decenas en números del 0 al 100.	FECHA	OCTUBRE 2021 38 PTS.

INSTRUCCIONES

- ✦ Antes de realizar la evaluación debes escuchar atentamente las instrucciones.
- ✦ Abre cuadernillo de Ciencia en página interactiva [liveworksheets](#).
- ✦ Desarrolla las actividades propuestas, si tienes alguna duda consulta a tu profesora.



1.- Escribe el número que se representa. (6 pts.)

 <input type="text"/>	 <input type="text"/>	 <input type="text"/>
 <input type="text"/>	 <input type="text"/>	 <input type="text"/>

2.- Escribe el número que va antes y después del que tiene la niña. (6 pts.)



3.- Ordena de menor a mayor. (5 pts.)

a)

37

10

48

69

92

b)

23

58

80

75

13

4.- Ordena de mayor a menor. (5 pts.)

a)

62

33

88

91

78

b)

58

79

21

95

47

5.- Resuelve adiciones. (6 PTS.)

D	U
4	5
3	4
+	

D	U
6	2
3	6
+	

D	U
7	0
	9
+	

D	U
5	1
4	3
+	

D	U
8	2
1	1
+	

D	U
2	6
2	2
+	

6.- Une con una línea cada adición con su resultado. (4 PTS.)

30 + 10 =

50 + 9 =

90 + 8 =

4 + 60 =

98

64

59

40

6.- Resuelve sustracciones. (6 PTS.)

D	U
8	7
- 5	- 6
<hr/>	

D	U
9	6
- 2	- 1
<hr/>	

D	U
6	9
- 4	- 7
<hr/>	

D	U
5	1
- 3	- 0
<hr/>	

D	U
4	5
- 4	- 1
<hr/>	

D	U
7	8
- 6	- 8
<hr/>	

