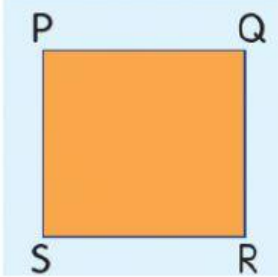



MATEMATIK TAHUN 4

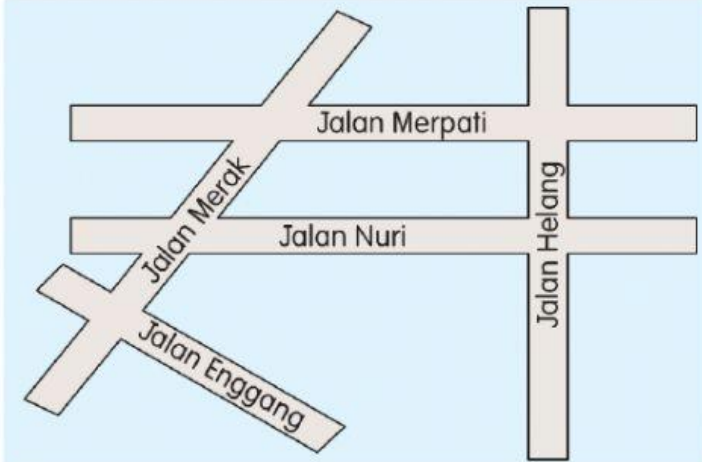
(GARIS SERENJANG DAN GARIS SELARI)

Arahan: Pilih jawapan yang betul.

1 Rajah menunjukkan segi empat sama dan segi empat tepat.

	
a. Nyatakan garis yang seranjang dengan PQ. <input type="text"/>	a. Nyatakan garis yang seranjang dengan KN. <input type="text"/>
b. Nyatakan garis yang selari dengan PS. <input type="text"/>	b. Nyatakan garis yang selari dengan KL. <input type="text"/>

2 Rajah menunjukkan satu peta jalan.

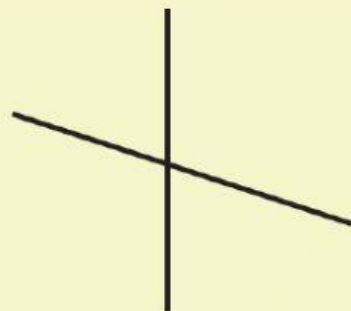
	<p>a. Nyatakan jalan yang selari dengan Jalan Nuri. <input type="text"/></p> <p>b. Nyatakan jalan-jalan yang membentuk garis seranjang. <div><input type="text" value="Jalan Merak dan Jalan Nuri"/></div><div><input type="text" value="Jalan Nuri dan Jalan Helang"/></div><div><input type="text" value="Jalan Helang dan Jalan Merpati"/></div><div><input type="text" value="Jalan Merpati dan Jalan Nuri"/></div></p>
---	---

Arahan: Nyatakan garis selari, garis serenjang atau bukan kedua-duanya.

a



b



c



d

