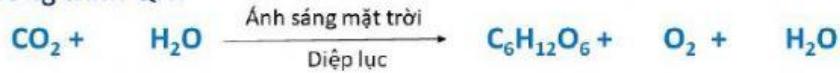


Họ và tên: .....  
 Lớp: .....

# Khái quát quang hợp ở thực vật

## 1. Phương trình QH?



## 2. Thí nghiệm về quang hợp (QH)

a. Nguyên liệu tham gia:

Ánh sáng mặt trời

CO<sub>2</sub> Lá O<sub>2</sub>

b. Điều kiện xảy ra:

Lục lạp C<sub>6</sub>H<sub>12</sub>O<sub>6</sub>

c. Sản phẩm:

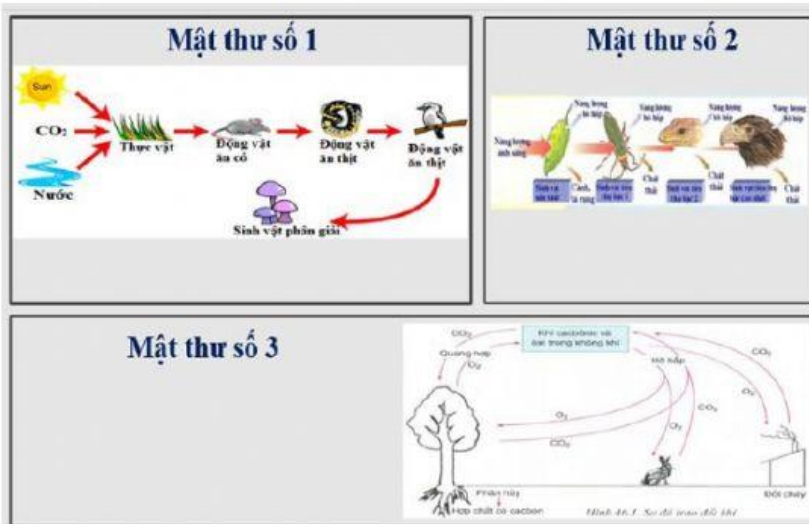
Diệp lục H<sub>2</sub>O

d. Bào quan QH:

d. Cơ quan QH:



## 3. Vai trò của quang hợp

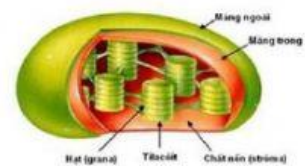


## 4. Cơ quan quang hợp

a. Lá



b. Lục lạp



Hình trứng, có khả năng di chuyển

Chứa nhiều sắc tố quang hợp