



*República de Honduras*  
*Secretaría de Educación*

**Prueba Fin de Grado 2014**

# Matemáticas

**2<sup>do</sup>**  
Grado

Nombre del Centro Educativo

Nombre del Alumno/Alumna

Sección

Edad

Género

- ☐ Masculino  
☐ Femenino

Jornada

- ☐ Mañana  
☐ Tarde  
☐ Extendida

Departamento

Municipio

Lugar

**INSTRUCCIONES**

Este **cuadernillo** contiene ejercicios de **Matemáticas**. Cada ejercicio tiene cuatro posibles respuestas. Usted deberá escoger la respuesta correcta. Recuerde que debe escoger una sola respuesta. Rellene completamente el círculo de la respuesta correcta.

1 **¿Qué número completa la serie?**

- ☐ A. 10
- ☐ B. 11
- ☐ C. 12
- ☐ D. 13



2 **¿Cómo se escribe quinientos sesenta y nueve?**

- ☐ A. 500
- ☐ B. 509
- ☐ C. 560
- ☐ D. 569

3 **¿Cuál es el resultado de  $89 + 9$ ?**

- ☐ A. 99
- ☐ B. 98
- ☐ C. 97
- ☐ D. 96

- 4 Lidia y Luis fueron al mercado y compraron 31 mangos y 15 naranjas, ¿cuántas frutas compraron en total?
- ☐ A. 56
- ☐ B. 54
- ☐ C. 46
- ☐ D. 44
- 5 Alexa compró una libreta de dibujo de 35 lempiras y una caja de colores de 62 lempiras. ¿Cuánto dinero gastó en total?
- ☐ A. L. 27
- ☐ B. L. 79
- ☐ C. L. 97
- ☐ D. L. 98
- 6 ¿Cuál es el resultado de  $86 - 5$ ?
- ☐ A. 30
- ☐ B. 36
- ☐ C. 81
- ☐ D. 82
- 7 ¿Cuál es el resultado de  $22 - 15$ ?
- ☐ A. 3
- ☐ B. 7
- ☐ C. 13
- ☐ D. 17

- 8 Los alumnos están leyendo un libro de 98 páginas y hoy leyeron 7.  
¿Cuántas páginas quedan por leer?
- ☐ A. 21
- ☐ B. 28
- ☐ C. 91
- ☐ D. 95
- 9 ¿A qué es igual la multiplicación  $5 \times 25$ ?
- ☐ A.  $25+25$
- ☐ B.  $5+5+5+5+5$
- ☐ C.  $5+25+5+25+5$
- ☐ D.  $25+25+25+25+25$
- 10 Al multiplicar  $5 \times 10$ , ¿cuál es el resultado correcto que se obtiene?
- ☐ A. 50
- ☐ B. 40
- ☐ C. 25
- ☐ D. 10
- 11 ¿Cuál es el producto de  $6 \times 7$ ?
- ☐ A. 13
- ☐ B. 30
- ☐ C. 42
- ☐ D. 49

12 ¿Cuál es el producto de  $5 \times 9$ ?

- ☐ A. 4
- ☐ B. 14
- ☐ C. 40
- ☐ D. 45

13 En la casa de Ana tienen 8 gallinas y cada gallina pone 2 huevos cada una. ¿Cuántos huevos hay en total?

- ☐ A. 6
- ☐ B. 10
- ☐ C. 16
- ☐ D. 24

14 Fredy tiene 5 bolsas, en cada bolsa hay 6 ciruelas. ¿Cuántas ciruelas tiene en total?

- ☐ A. 25
- ☐ B. 30
- ☐ C. 36
- ☐ D. 42

15 ¿Cuál es el resultado de  $15 \div 3$ ?

- ☐ A. 6
- ☐ B. 5
- ☐ C. 4
- ☐ D. 3





16 ¿Cuál es el resultado de:  $(34-13)+(48-13)$  ?

- ☐ A. 56
- ☐ B. 57
- ☐ C. 58
- ☐ D. 61

17 Josué tenía 9 globos y su hermana le regaló 2 pero se le reventaron 3. ¿Cuántos globos le quedaron?

- ☐ A. 14
- ☐ B. 12
- ☐ C. 11
- ☐ D. 8

18 ¿Qué figura tiene segmentos de línea recta?

- ☐ A. 
- ☐ B. 
- ☐ C. 
- ☐ D. 

19 ¿Cuál objeto tiene forma de esfera?

- ☐ A. 
- ☐ B. 
- ☐ C. 
- ☐ D. 

- 20 Luis recibe de su papá dos billetes: uno de 20 lempiras y otro de 10 lempiras para ir a la escuela. Si Luis regresa a casa con 17 lempiras, ¿cuántos lempiras gastó Luis?

☐ A. 23

☐ B. 17

☐ C. 13

☐ D. 3

- 21 ¿Cómo se escribe trece centímetros?

☐ A. 13 mm

☐ B. 13 cm

☐ C. 13 dm

☐ D. 13 m

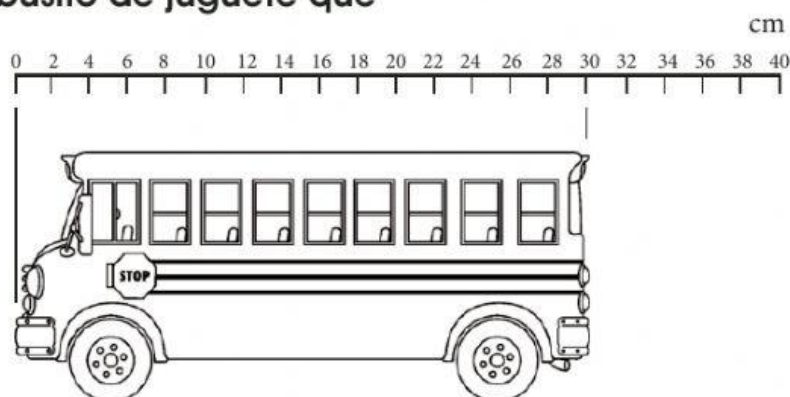
- 22 ¿Cuál es la medida del busito de juguete que muestra la figura?

☐ A. 10 centímetros

☐ B. 20 centímetros

☐ C. 30 centímetros





☐ D. 40 centímetros



23 Mario compró 12m 53cm de tela y hoy compró 14m 25cm. ¿Cuánto compró en total?

- ☐ A. 26m 78cm
- ☐ B. 26m 53cm
- ☐ C. 26m 25cm
- ☐ D. 26m 32cm

24 ¿Qué reloj indica las 6:45?

- ☐ A. 
- ☐ B. 
- ☐ C. 
- ☐ D. 

25 Los juegos olímpicos se realizan cada cuatro años. Si los últimos juegos olímpicos se realizaron en Londres en 2012. ¿En qué año se realizarán nuevamente?

- ☐ A. 2014
- ☐ B. 2015
- ☐ C. 2016
- ☐ D. 2018

26 ¿Qué número es menor que 537?

- ☐ A. 539
- ☐ B. 538
- ☐ C. 537
- ☐ D. 536

27 ¿Cómo quedan los números 23, 28 y 25 al ordenarlos de mayor a menor?

- ☐ A. 23, 25, 28
- ☐ B. 28, 23, 25
- ☐ C. 28, 25, 23
- ☐ D. 23, 28, 25

28 ¿Qué número hace falta en el cuadro que completa la suma?

- ☐ A. 1
- ☐ B. 2
- ☐ C. 3
- ☐ D. 4

□5+	
20	
—	
45	

29 ¿Qué dígito completa la expresión:  $\underline{\quad}98 < 397$ ?

- ☐ A. 2
- ☐ B. 3
- ☐ C. 7
- ☐ D. 8