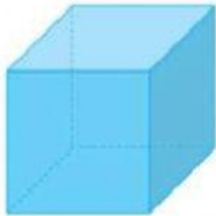
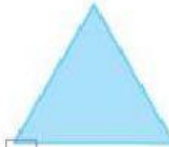






1. Selecciona las caras que no forman parte del cuerpo geométrico.

☐☐☐☐☐☐

2. Selecciona los objetos que pueden rodar.


☐☐☐☐

3. Selecciona los objetos que se deslizan.

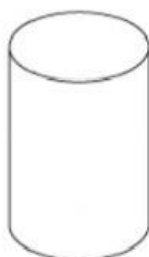
☐☐☐☐



4. Observa con atención los cuerpos geométricos del suelo. Luego, escoge el número que responde la pregunta.



- ¿Cuántos cuerpos geométricos de cada clase puedes encontrar en la imagen?



☐ 2

☐ 4

☒ 1



☐ 5

☐ 3

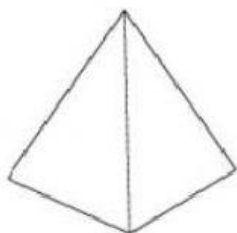
☒ 1



CENTRO EDUCATIVO BILINGÜE "MI ECUADOR"

NUESTRA EXPERIENCIA ES SU GARANTÍA

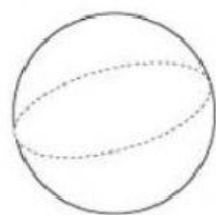
ÁREA MATEMÁTICAS



☐ 1

☒ 2

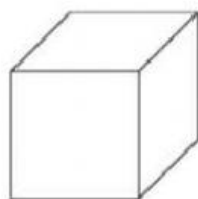
☐ 5



☒ 2

☐ 4

☐ 1



☐ 3

☒ 1

☐ 2






CENTRO EDUCATIVO BILINGÜE "MI ECUADOR"

NUESTRA EXPERIENCIA ES SU GARANTÍA

ÁREA MATEMÁTICAS

5. Relaciona el cuerpo geométrico con la huella que le corresponde.



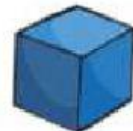
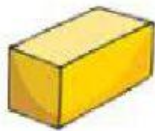


CENTRO EDUCATIVO BILINGÜE "MI ECUADOR"

NUESTRA EXPERIENCIA ES SU GARANTÍA

ÁREA MATEMÁTICAS

6. Arrastra los cuerpos geométricos según su clasificación.



Poliedros

Cuerpos redondos

