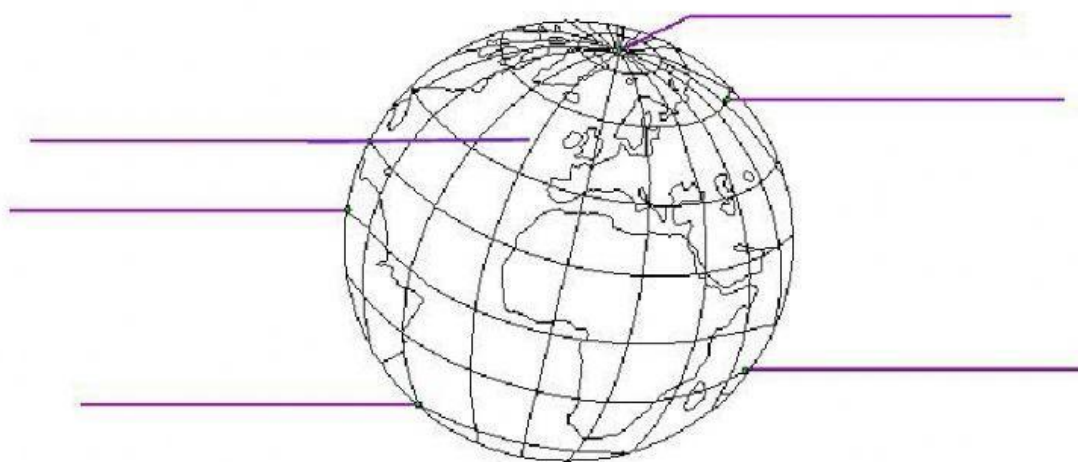


## EXAMEN DE GEOGRAFÍA

### QUINTO GRADO

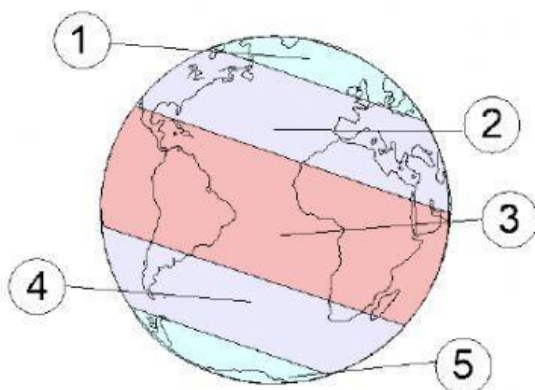
#### I.- Observa la siguiente imagen.

Escribe el nombre de las líneas imaginarias de la tierra donde corresponde: **Polo norte, Polo sur, Ecuador, meridianos y paralelos** 6 ac



#### II.- Observa la siguiente imagen. Escribe el nombre de las zonas térmicas de la tierra en el número que le corresponde: **Templada del norte, Templada del sur, Cálida, Polar norte, Polar sur.** 5 ac

Zonas térmicas de la tierra

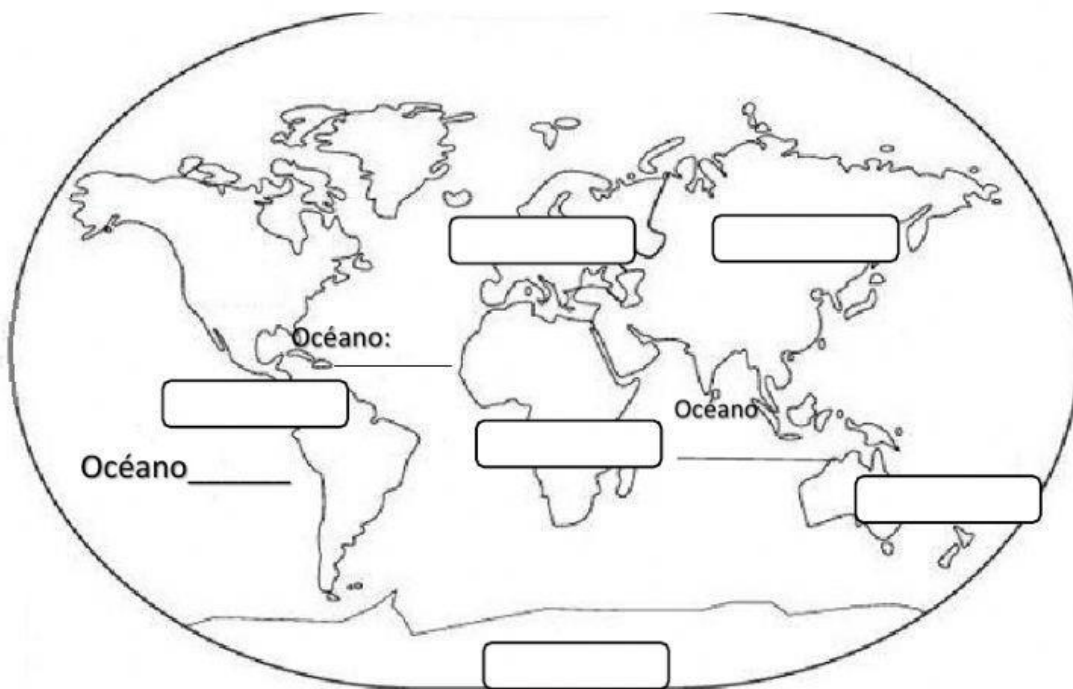


- 1 – Zona \_\_\_\_\_
- 2 – Zona \_\_\_\_\_
- 3 – Zona \_\_\_\_\_
- 4 – Zona \_\_\_\_\_
- 5 – Zona \_\_\_\_\_

### III.-CONTESTA: 10 ac

- 1.- Movimiento en el que la tierra gira sobre su propio eje, dura 24 horas y origina la sucesión de días y noches. \_\_\_\_\_
- 2.- Movimiento en el que la tierra gira alrededor del sol, tarda 365 días y es el que origina las estaciones del año. \_\_\_\_\_
- 3.- ¿Cuáles son los dos tipos de relieve de la superficie terrestre? \_\_\_\_\_
- 4.- Las montañas, mesetas, llanuras, valles y depresiones son elementos que conforman el relieve \_\_\_\_\_
- 5.- Nombre de los continentes \_\_\_\_\_

### IV.- Anota el nombre a los océanos y a los continentes: 9ac



30 aciertos