


- AVUI NA NOELIA HA ANAT A COMPRAR POMES. CADA POMA COSTAVA 1EURO. HEM COMPRAT 10 POMES.



- QUANT HEM DE PAGAR PER LES 10 POMES?

5 EUROS

9 EUROS

10 EUROS



- QUANTES MONEDES D'1 EURO NECESSITAM PER PAGAR 5 POMES?



- QUANTES MONEDES DE DOS EUROS NECESSITAM PER PAGAR 6 POMES?



- NA ZOE I NA DÚNIA VAN A COMPRAR PERES I PLÀTANS. LES PERES VALEN 2 EUROS I ELS PLÀTANS 1 EURO.



QUANT VALEN ELS TRES PLÀTANS?

3 EUROS

5 EUROS

2 EUROS

1 EURO

QUANT VALEN DUES PERES?

5 EUROS

6 EUROS

4 EUROS